

பௌதிகவியல் 1. க.பொ.த (உயர்தரம்) மாதிரி விடைகள், ஏப்ரல், 1975.



1. பின்வருவனவற்றுள் எது உராய்வுக் குணகத்தின் பரிமாணங்களைக் குறிக்கும்?
 1. MLT^{-2}
 2. $ML^{-1}T^{-2}$
 3. MT^{-1}
 4. MLT^{-1}
 5. பரிமாணமில்லா
2. பத்து நியூற்றன் விசைக்கு அண்ணளவாகச் சமமானது:
 1. 100 கி.நிறை
 2. 22 டிர.நிறை
 3. 2 கிலி நிறை
 4. 2240 டிர.நிறை
 5. 2.2 டிர.நிறை. $\approx 1Kg$
3. பின்வரும் பௌதிக அலகுகளுள் எவை ஒரே பரிமாணங்களைக் கொண்டவை?

(a) வாரற்ற (b) நியூற்றன் (c) எச்ட்டெ (d) கிலோவாரற்ற மணி (e) டிரூத்தலி

 1. a உம் c உம்
 2. a உம் d உம்
 3. b உம் e உம்
 4. c உம் d உம்
 5. a உம் e உம்
4. ஆப்டிசு (hertz) எனும் அலகு அளப்பது:
 1. செறிவு
 2. காந்தப்புலம் (மண்டலம்)
 3. அழுக்கம்
 4. மின்னழுத்தம்
 5. மீட்டர் (அதிர்வெண்)
5. ஒலிச் சுருமொன்றினது மீட்டர் அதிகரிக்கப்படும் பொழுது பின்வருவனவற்றுள் எது நிகரும்?
 1. ஒலியலையினது அலைநீளம் அதிகரிக்கும்
 2. ஒலியலையினது கதி அதிகரிக்கும்.
 3. ஒலியின் உரப்பு அதிகரிக்கும்.
 4. ஒலியின் சுருதி அதிகரிக்கும்
 5. அதிர்வுகளின் வீச்சம் அதிகரிக்கும்.
6. கீழே தரப்பட்டுள்ள பதார்த்தங்களுள் எவற்றை நல்ல காவலிகளாக நீர் வகைப்படுத்துவீர்?

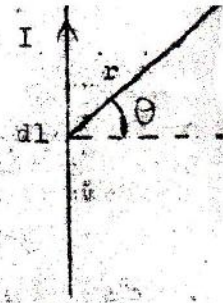
(a) ஈயம் (b) கந்தகம் (c) நேரேனியம் (d) பீங்கான் (e) சிலிக்கை

 1. a உம் c உம்
 2. b உம் d உம்
 3. c உம் e உம்
 4. b உம் e உம்
 5. c உம் d உம்
7. NS என்பது, M-எனும் காந்தத் திருப்பலும் (திருப்புத்திறனும்) m எனும் முனைவுத்திறனும் கொண்ட ஒரு குவிய சட்டக் காந்தமாகும். P என்பது அந்தக் காந்தத்தின் மத்திய கோட்டில், அதன் மையத்திலிருந்து d எனும் தூரத்திலுள்ள ஒரு புள்ளியாகும். Pயில் காந்தத் திறஞ்சிய காந்தப் புலத்தினது செறிவு:
 1. $\frac{\mu}{d^3}$
 2. $\frac{2M}{d^3}$
 3. $\frac{2m}{d^3}$
 4. $\frac{M}{d^3}$
 5. $\frac{M}{d^2}$
8. வெவ்வேறு விட்டங்களைக் ($A > B$) கொண்ட A, B என்னும் இரண்டு சவர்க்காரக் குழிகள் படத்திற் காட்டியபடி மூல யொன்றிலே தொடுக்கப்படுகின்றன. பின்வருவனவற்றுள் எது நிகரும்?
 1. A உம் B உம் இருந்தபடியே இருக்கும்
 2. இரண்டும் ஒரே விட்டத்தைக் கொள்ளுவரை A அளவு B-யினுள் வளையப் பம்பும்.
 3. B அளவு தனது வளி முழுவதையும் Aயினுள் பம்பும்.
 4. A அளவு தனது வளி முழுவதையும் Bயினுள் பம்பும்.
 5. A, B இரண்டும் சுருங்கி மறைந்துவிடும்.
9. $0^\circ C$ இலுள்ள குறித்த அளவு நீரை $100^\circ C$ இற்கு மீள்வெப்பமாகியொன்றில் வெப்பமாகக் கப் 15 நிமிடங்கள் தேவைப்பட்டது. அதே நிபந்தனைகளில் அந்த நீர் முழுவதையும் கொதிநீராவியாக மாற்ற அண்ணளவாக மேலும் எவ்வளவு நேரம் தேவைப்படும்?
 1. 2% நிமி.
 2. 15 நிமி.
 3. 1 மணி 20 நிமி.
 4. 35 நிமி.
 5. 1 மணி 5 நிமி.
10. ஒரு கார்வண்டியின்து P யிலிருந்து Q வரையான ஒரு தூத்தை 40 கி/ம கதியிற் கடந்து, பின்னர் Q இலிருந்து P இற்கு 30 கி/ம கதியில் மீள்கின்றது. மூலப் பயணத் திற்குமான சராசரிக் கதி:
 1. ஏறக்குறைய 70 கி/ம
 2. 35 கி/ம
 3. செப்பமாக 35 கி/ம
 4. 35 கி/ம இலுள் குறைந்தது.
 5. 30 கி/ம க்கு மிகவும் அருகானது.
11. சீரான வேகத்துடன் கிளையாகப் பறக்கும் விமானமொன்றிலிருந்து ஒரு குண்டு போடப் படுகின்றது. வளியில் உராய்வைப் புறக்கணிப்பின், குண்டு நிலத்தில் அடிக்கும்போது, விமானத்தினது நிலை:
 1. குண்டிற்கு முன்புலே இருக்கும்.
 2. குண்டிற்குப் பின்னலே இருக்கும்.
 3. குண்டிற்கு நேரே உச்சியில் இருக்கும்.
 4. எதுவென குண்டே கறியடியாது.
 5. விமானத்தின் வேகத்திலே தங்கியிருக்கும்.



12. I எனும் மின்னோட்டம் செவ்வம் கடத்தியில் dl எனும் துண்டத்தின் P மீல் ஏற்படுத்தப்படும் காந்தப்புலம்:

1. $\frac{I dl \sin \theta}{r}$
2. $\frac{I dl \cos \theta}{r}$
3. $\frac{I dl \sin \theta}{r^2}$
4. $\frac{I dl \cos \theta}{r^2}$
5. $\frac{I dl \sin \theta}{r^3}$



13. நீளமான நிலைக்குத்துக் கம்பியொன்றினால் ஒரு மின்னோட்டம் மேல்முகமாகச் செல்கிறது. அதன் காந்தப்புலத்தினால் கிடைக் கற்றலே ஒரு "நடுநிலைப்புள்ளி"

1. கம்பிக்கு வடக்கே காணப்படும்.
2. கம்பிக்குத் தெற்கே காணப்படும்.
3. கம்பிக்குக் கிழக்கே காணப்படும்.
4. கம்பிக்கு மேற்கே காணப்படும்.
5. காணப்படமாட்டாது.

14. ஐதரசன் நிரப்பப்பட்ட பாலினார்ய V எனும் கவளவம் M எனும் திணிவுக் கொண்டிருக்கிறது. அது இலேசான இழையொன்றினால் நிலத்திற்கு கட்டப்பட்டிருக்கிறது. அது சம நிலையிலிருக்கும்போது இழை நிலைக்குத்தாக்கிற்கு, அதில் இழுவை T அளும். பின் மீதான மேலுதைப்பு:

1. $T - V - Mg$
2. $T + V - Mg$
3. $T - Mg$
4. Mg
5. $T + Mg$

15. குழியினால் ஏற்றக் கோணத்தைக் காண்பதற்காகப் பயன்படுத்தப்படும் கருவி:

1. சூப்போரூன் கட்டி
2. உடலொலிப்பெருக்கி கட்டி
3. உயரமானி
4. பன்னிறவுருக் கட்டி
5. சட்டமம்.

16. குழிப்பாசனத் தொண்டி கண்ணென்றல், விம்பம்:

1. வித்திற்கு முன்பே ஆக்கப்பட்டு, ஒரு குழியின்மேயிலே குவிக்கப்படும்.
2. வித்திற்குப் பின்னாலே ஆக்கப்பட்டு, ஒரு குழியின்மேயிலே குவிக்கப்படும்.
3. வித்திற்கு முன்பே ஆக்கப்பட்டு, ஒரு குழியின்மேயிலே, குவிக்கப்படும்.
4. வித்திற்குப் பின்னாலே ஆக்கப்பட்டு, ஒரு குழியின்மேயிலே குவிக்கப்படும்.
5. குவித்தல் ஆக்கப்படும், ஆனால் உருத்திரிந்திருக்கும்.

17. சாதாரண அளியொன்றான ஹிக்கம் கோணம் A ஆகும், D_r , D_v என்பன முறையே அளிக்கின்ற செவ்வம் சிந்த, அதா ஒளிக்குத்தான இழுவிலகற் கோணங்களாகும். பின்வருவனவற்றில் எது சரியானது

1. D_r என்போலும் $> D_v$
2. D_v என்போலும் $> D_r$
3. $D_r = D_v$
4. A ஐப் பொறுத்த $D_v \geq D_r$
5. படுகோணத்தைப் பொறுத்த $D_v \leq D_r$

18. அளியொன்றான ஹிக்கம் கோணம் 50° ஆகும், குறித்த ஒளிக்கு இழுவிலகற் கோணம் 30° ஆகும். இழுவிலகலிற்கான படுகோணம்:

1. 80°
2. 20°
3. 25°
4. 65°
5. 40°

19. மாறாக் கவளவ வரைய வெப்பமானியொன்றினால் குழிப் பனிக்கட்டியில் அமிழ்த்தப்படும்போது அழகம்மாசியினால் இரச மட்டங்களின் வித்தியாசம் -8 சமீ. ஆகும். 1 வரிமண்டல அழகக் கதிர்வே கொதிக்கும் தீர்மான வைக்கப்படும்போது இரச மட்டங்களின் வித்தியாசம் $+17$ சமீ. ஆகும். கொதிக்கும் எண்ணெயொன்றினால் குழி அமிழ்த்தப்படும்போது மட்டங்க கிடையேயான வித்தியாசம் $+8$ சமீ. ஆகத் காணப்படுகிறது. கொதிக்கும் எண்ணெயின் வடிவ வெப்பநிலை

1. $40^\circ C$
2. $88^\circ C$
3. $64^\circ C$
4. $48^\circ C$
5. $36^\circ C$

20. முறையே m_1 , m_2 எனும் திணிவுகளைக் கொண்ட இரண்டு பொருள்கள் வெளியில் மோதி ஒன்றுக் கட்டிக்கொள்கின்றன. ஆயினும் மோதலின் போது ஒன்றினந்த திணிவிடந்து m திணிவுடைய ஒரு பகுதி உடைந்து வேறுகச் சிதறி விடுகிறது. பின்வருங் கூற்றுகளில் எது சரியானது?

- (a) தொகுதியினது மொத்த நியக்கப்பாட்டுச் சக்தி மாறாது.
- (b) தொகுதியினது மொத்த உந்தம் மாறாது
- (c) தொகுதியினது மொத்தத் திணிவு மாறாது
1. (a) மாத்திரம்
2. (b) மாத்திரம்
3. (c) மாத்திரம்
4. (b) உம் (c) உம் மாத்திரம்
5. குன்றும்.

21. W எனும் நிறையுடைய பொருளொன்றை, கிடைப்புக் கோணம் a இற் சாய்ந்துள்ள தள மொன்றின் வழியே சரிசன ஒரு வேகத்துடன் கீழ்நோக்கி இயங்குகிறது. தளத்தின் மறுதாக்கத்தின் பருமனும் திசையும்: 1. W நிலைக்குத்தாக மேல்நோக்கி 2. W தளத்திற்குச் செங்கோணத்தில் 3. W cos a தளத்திற்குச் செங்கோணத்தில் 4. W sin a தளத்திற்குச் செங்கோணத்தில் 5. பூச்சியம்.

22. செக்கனுக்கு 288 மீட்டர் கொண்ட இசைக்கவரொன்றின் ஒத்தகருமீற்ற சரமாவைக் கம்பியொன்று இசைக்கப்பெடும்போது, செக்கனுக்கு 5 மீட்டர் மீட்டரிலே அடிப்புகை தேட்கப்படுகின்றன. இசைக் கவரினது ஒரு கீடையில்-சிறிய மெருகுத் துண்டொன்று ஒட்டவைக்கப்பட்டபோது, அடிப்புகை மீட்டர் செக்கனுக்கு 2 ஆகத் குறைந்ததாக அவதானிக்கப்படுகின்றது. சரமாவைக் கம்பி அதி கும் மீட்டர்:

1. 293 2. 290 3. 288 4. 286 5. 283

23. வலியில் நிலைத்த ஒலியையொன்றின் ஒரு கணுவில் அல்லது முரண்கணுவில் கேட்கப்படும் ஒலி பற்றிய பின்வரும் கூற்றுகளுள் எது சரியானது.

1. அழுக்க ஏற்ற இறக்கங்கள் மிக உயர்வானதாகையால் கணுக்களில் உரப்பான ஒலி
2. அதிர்வின் வீச்சும் மிக உயர்வானதாகையால் கணுக்களில் உரப்பான ஒலி
3. அதிர்வின் வீச்சும் மிக உயர்வானதாகையால் முரண்கணுக்களில் உரப்பான ஒலி
4. அழுக்க ஏற்ற இறக்கங்கள் மிக உயர்வானதாகையால் முரண்கணுக்களில் உரப்பான ஒலி
5. கணுக்களும் முரண்களும் ஒரே ஒலி கேட்கப்படும்.

24. வலியில் ஒலியின் வேகம் பற்றிய பின்வரும் கூற்றுகளுள் எது உண்மையானது

1. அழுக்கம் மாறுதிரக்கும்போது வெப்பநிலையுடன் குறையும்.
2. வெப்பநிலை மாறுதிரக்கும்போது அழுக்கத்துடன் குறையும்.
3. வெப்பநிலை மாறுதிரக்கும்போது அழுக்கத்துடன் கூடுகிறது.
4. அழுக்கம் மாறுதிரக்கும்போது வெப்பநிலையிலே தங்கியிராது.
5. வெப்பநிலை மாறுதிரக்கும்போது அழுக்கத்திலே தங்கியிராது.

25. "a" எனும் ஆரையும், "p" எனும் அடர்த்தியும் கொண்ட சிறிய கொளமென்ற "r" எனும் அடர்த்தி கொண்ட ஒரு பிசுக்குத் திரவத்தினுள் விழும்போது $\frac{r}{a}$ எனும் முடிவு வேகத்தை அடைகின்றது. "a" ஒரு மாறிலியாயின், பின்வருவனவற்றில் எது உண்மையானது?

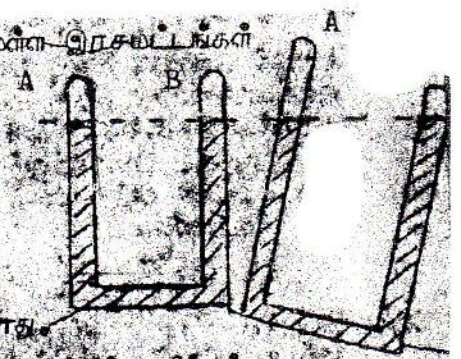
1. $V \propto P$ உம், $\frac{r}{a}$ இலே தங்கியிராதது ஆகும்.
2. $V \propto \frac{1}{P}$ உம், P இலே தங்கியிராதது ஆகும்.
3. $V \propto \frac{1}{P}$ உம், $\frac{r}{a}$ இலே தங்கியிராதது ஆகும்.
4. $V \propto (P - \frac{r}{a})$ உம், $\frac{r}{a}$ இலே தங்கியிராதது ஆகும்.
5. $V \propto \frac{r}{a}$ உம், $\frac{r}{a}$ இலே தங்கியிராதது ஆகும்.

26. 5 மீ நீளமும் 4 மீ விட்டமும் கொண்ட உலோகக் கம்பியொன்று உறுதியான முனையொன்றிலிருந்து தொங்கவிடப்பட்டுள்ளது. கம்பியின் கீழ் முனையில் 10 கி.கி. நிறை உள்ள தொங்கவிடப்படும்போது அது 4 மீ ஆல் நீட்டப்படுகின்றது. அதே நீளமுள்ள அதே பதார்த்தத்தாலானதுமாயினும் 2 மீ விட்டம் கொண்ட கம்பியொன்றிலிருந்து அதே சுமை தொங்கவிடப்பட்டால், நீளவிரிவு எவ்வளவு ஆகும்?

1. 1 மீ 2. 2 மீ 3. 4 மீ 4. 8 மீ 5. 16 மீ

(27.) A, B எனும் இரண்டு முனைகளும் அடைத்த U குழாயொன்று நிலைக்குத்தாக இருக்கும்போதும், -படத்தில் காட்டியபடி சரித்தப்படும் போதும் அதன் புயங்கள் இரண்டிலுள்ள இரகலங்கள் ஒரே அளவில் இருக்கின்றன. அது நிகழ்வது.

1. A யிலும் B யிலும் ஒரே அளவு வளி இருக்கும்போது
2. B யில் வளியேதும் இல்லாமல், A யில் வளி இருக்கும்போது.
3. A யில் வளியேதும் இல்லாமல், B யில் வளி இருக்கும்போது.
4. A, B இரண்டிலும் வளியேதும் இராதபோது
5. U குழாய்கள் தனிப்புச்சிய வெப்பநிலையிலிருக்கும்போது.



28. விழிப்பு வரை எண்ணெய் ($\rho < 1$) திரவம் மூக்குவெள்ளத்தில் பனிக்கட்டித் துண்டொன்றை உள்ளது. பனிக்கட்டி உருகும்போது.

1. மூக்குவெள்ளில் இருந்து ஓரளவு திரவம் வழிந்தோடும்.
2. மூக்குவெள்ளில் திரவ மட்டம் இறங்கும்.
3. திரவ மட்டம் அதேயளவில் இருக்கும்.
4. எண்ணெயினது தன்விரிப்பும் பார்க்கப் பனிக்கட்டியினது தன்விரிப்பு சிறியதோ பெரியதோ என்பதைப் பொறுத்தது திரவ மட்டம் இருக்கும்.
5. பனிக்கட்டித் துண்டினது பருமனைப் பொறுத்துத் திரவ மட்டம் இருக்கும்.

29. ஓரத் துரு இருக்கும் சர்வசமமான கோளத்திசைத் துகள்கள் V எனும் ஒரே அழுக்கத் திற் கு ஏற்றப்படுகின்றன. பின்னர் ஏற்றமெதையும் இறக்காது தனியொரு பெரிய கோளத் துகளாக இடையே செய்யப்படுகின்றன. இந்தப் பெரிய துகளினது அழுக்கம்.

1. nV 2. $\frac{V}{n}$ 3. \sqrt{nV} 4. $n \times V$ 5. V

30. சம ஆரக்களைக் கொண்ட உலோகக் கோளங்களிரண்டு, அவற்றின் மையங்களுக்கு இடையேயான தூரம் அவற்றின் ஆரக்களைக் கட்டுத்தொகையின் பெரிதாக இருக்குமாறு வைக்கப்பட்டிருக்கின்றது. ஒவ்வொரு தனித்த கோளத்தினதும் கொள்ளளவு C ஆயின், இரண்டு கோளங்களினதும் அமையும் தொகுதியைக் கொள்ளளவு:

1. C 2. $\frac{C}{2}$ 3. 2C 4. $\sqrt{2}C$ 5. $\frac{C}{\sqrt{2}}$

31. தளவாடியொன்றின் முன் நிற்கும் ஒருவர் தம்முடைய மூல உயரத்தையும் பாரீக்கக்கூடியதாக இருப்பதற்கு வேண்டிய ஆடியின் மீக்க குறுந்த நீளம் யாது

1. அவருடைய உயரத்தின் அதே அளவு
2. அவருடைய உயரத்தின் இரு மடங்கு
3. அவருடைய உயரத்தின் அரைப்பங்கு
4. $\sqrt{2} \times$ அவருடைய உயரம்
5. நீளம், அவருக்கும் ஆடிக்குமிடையேயான தூரத்தைப் பொறுத்ததாக இருக்கும்.

32. இரண்டு ஆட்களினதும் தெறித்தபின் பெறப்படும் ஒளிக்கதிராளை படுகோணம் எதுவாக இருப்பினும்படுகதிர்க்குச் சமாதரமாக இருப்பதற்கு, இரண்டு ஆட்களினதும் தெறி பரப்புக்கள் ஒன்றுக்கொன்று என்ன கோணத்தில் வைக்கப்பட்டவேண்டும்

1. 30° 2. 25° 3. 60° 4. 90° 5. 120°

33. பாடசாலைப் படமெறிசூலி (projector) ஒன்று 400 கண்டலா (candela) வலவுள்ள ஒரு விளக்கைப் பயன்படுத்துகின்றது. இதன் ஒளியின் 0.3 நூற்றுவிகை 3 சதுர மீற்றர் பரப்பளவுள்ள திரையொன்றின்மீது எறியப்படும். திரையில்-ஒளிச் செறிவு:

1. $\frac{0.3}{\pi}$ லட்ச 2. 1.2 லட்ச 3. 3.6 லட்ச
4. 1.6π லட்ச 5. 4.8π லட்ச

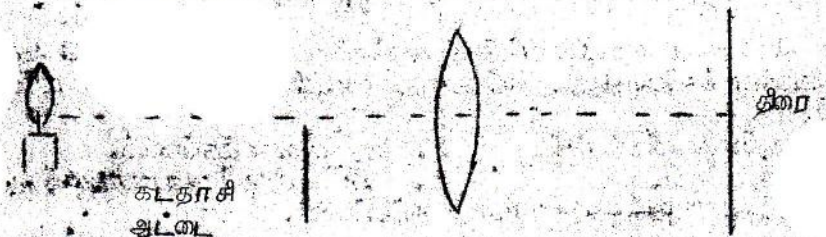
34. கல்வெழுமானியொன்றினது சுருளுடன் பொருத்தப்பட்ட சிறிய ஆடியொன்றிலிருந்து தெறிக்கப் படும் ஒளிப்பொருடொன்றை, ஆடியிலிருந்து-1 மீற்றர் ல், தெறித்த கற்றைக்கு ஏறத்தாழச் செங்குத்தாக வைக்கப்பட்டுள்ள ஒரு அளவுகோலின் மீது விழுகின்றது. கல்வெழுமானிச் சுருள் 1° ஆல் திரும்பும்போது அளவுகோலில் ஒளிப்பொருடினது பெயர்ச்சி:

1. 1 சமீ 2. 2 சமீ 3. 3.5 சமீ 4. 7 சமீ 5. 0.5 சமீ.

35. முன் ஒளித்தலொன்றும், இரண்டு தளவாடிகளில் ஆக்கப்படும் அதன் விப்பங்களும் சம பக்க முக்கோணியொன்றின் உச்சிகளில் அமைகின்றது. ஆட்களுக்கு இடையே இருக்க வேண்டிய கோணம்:

1. 120° 2. 90° 3. 60° 4. 45° 5. 30°

36. இரட்டைக் குவிவில்லையொன்றைக் கொண்டு, ஒரு மெய்குதிரிக்கவாலை-விப்பம் திரையொன்றிலே பெறப்படுகின்றது. அதே, படத்திற் காட்டியபடி ஒரு கடதாசி அட்டையினால் விலை அரைப்புகளவிற்கு மூப்படுகின்றது. விப்பம் எவ்வாறு மாற்றப்படும்?



1. மாற்றமெதுவும் இல்லாது. 2. சுவாலையினது முழு விப்பமும் தெரியும், ஆயினும் முன்னிருந்ததில் அரைப்பங்களவு பிரகாசமாகவே இருக்கும்.
3. அரைப்பங்களின் விப்பமே அரைப்பங்களவு பிரகாசத்துடன் தெரியும்.
4. அரைப்பங்களவு விப்பமே முழுப்பிரகாசத்துடன் தெரியும்.
5. திரையில் விப்பம் எதுவும் தோன்றாது.

37. ஒரு முனை அடைத்த, 60 சமீ நீளமான ஒள்குவிய சீரான மூடியொன்றினுள் அடக்கப் பட்டிருக்கும் வரியானது 15 சமீ நீளமான இரச நிரலினால் வெளிப்படுத்த வரியிலிருந்து பிரிக்கப்பட்டிருக்கின்றது. மூலாய் விடையாகக் திடீரும்போது, அதிலுள்ள வரி 24 சமீ நீளத்தை அடக்குகின்றது. திறந்த முனை உச்சியிலிருக்கக் மூலாய் நிலைக்குத்தாக நிற்கும் போது, வரி 20 சமீ நீளத்தை அடக்குகின்றது. திறந்த முனை ஆடியில் இருக்கக் மூலாய் நிலைக்குத்தாக நிற்காமாயி, மூலாயில் அடக்கப்பட்டுள்ள வரி நிரலினது நீளம் என்ன வாய் இருக்கும்.

1. 22 சமீ 2. 28 சமீ 3. 30 சமீ 4. 35 சமீ 5. 45 சமீ.

38. நிறத்தற் பொறியொன்றினிந்து வைக்கப்பட்டுள்ள ஒரு பெட்டியினுள்ளே, பறவையொன்றை அடைக்கப்பட்டிருக்கின்றது. பெட்டியின் ஆடியில் பறவை அமர்ந்திருக்கும்போது, நிறத்தற்

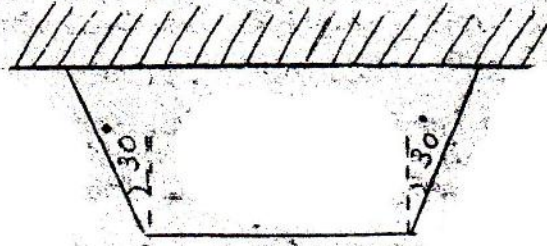
பொறியின் வாசியு W ஆகும். பறவை அடியிலிருந்து திசைப் பெய்சியைப் புறத்திலே பறந்து கொண்டிருக்கிறது. அப்போது நிறுத்தப் பொறியின் வாசியு:

1. $> W$
2. $< W$
3. W
4. பறவை பறந்துகொண்டிருக்கும் திசையைப் பொறுத்த ஒரு பெறுமானமாய் இருக்கும்.
5. பறவை பறந்துகொண்டிருக்கும் திசையைப் பொறுத்த ஒரு பெறுமானமாய் இருக்கும்.

39. m_1, m_2 எனும் திணிவுடைய இரண்டு பொருள்கள், ஒப்பமான நிறையிலாக கம்பி யொன்றின்மீது செல்லும் மீள்தன்மையிலா இழையொன்றிலே தொடுக்கப்பட்டிருக்கின்றன. அந்த இழையின் இழை:

1. $(m_1 - m_2)g$
2. $\frac{m_1 + m_2}{2} g$
3. $(m_1 + m_2)g$
4. $\frac{2}{m_1 + m_2} g$
5. $\left(\frac{1}{m_1} + \frac{1}{m_2}\right) g$

40. W எனும் நிறை கொண்ட AB எனும் தூளான கோடுவொன்று இலேசான திரை இழை களிரண்டில் கிடையாகத் தொங்கவைக்கப்பட்டுள்ளதைப் படங் காட்டுகிறது. இவ்வொரு இழையின் இழை:



1. $\frac{W}{2 \cos 30^\circ}$
2. $\frac{W}{2 \sin 30^\circ}$
3. $\frac{W}{2} \cos 30^\circ$
4. $\frac{W}{2} \sin 30^\circ$
5. $\frac{2W}{\cos 30^\circ}$

41. பின்வருவனவற்றுள் எவை, வாயுக்களின் எவிய இயக்கப்பாட்டுக் கொள்கையாக இருக்கின்றன?

- (a) மூலக்கூறுகள் மீதான புவிவிர்ப்பு விசை புறக்கணிக்கத்தக்கது.
- (b) மூலக்கூறு ஒவ்வொன்றும் புறக்கணிக்கத்தக்க கனவளவைக் கொண்டிருக்கும்.
- (c) மூலக்கூறுகளுக்கிடையேயான மோதுகைகள் மீள்தன்மையினதாக இருக்க வேண்டியதில்லை.
- (d) மூலக்கூறுகளிடையே சிறிய கவர்ச்சி விசைகள் உண்டு.
- (e) மோதுகைகளுக்கிடையில், மூலக்கூறுகள் நேர்கோட்டில் இயங்கும்.

1. a உம் e உம்
2. a உம் b உம்
3. a உம் e உம் d உம்
4. b உம் d உம்
5. c உம் d உம்

42. திட்டமான திணிவுடைய வாயுவொன்றின் அழுக்கம்-மாறுதல் பேணப்பட்டு அதன் கனவளவு இரண்டு மடங்காக்கப்படுகிறது. அப்போது, வாயுவின் மூலக்கூறுகளின் வீரக்க இடைமூலக் கதி:

1. அரைப்பங்காக்கப்படும்.
2. ஒரு மடங்காக்கப்படும்.
3. மாறுதலுக்கும்.
4. $\sqrt{2}$ எனும் காரணியைத் குறைக்கப்படும்.
5. $\sqrt{2}$ எனும் காரணியைப் கூடுதலாக்கப்படும்.

43. தட்டையடிப்பாத் திரமொன்று நீரைக் கொண்டிருக்கிறது. அந்தப் பாத் திரத்தில் அடியிற் செயற்படும் அழுக்கம்:

1. பாத் திரத்தில் உள்ள நீரின் திணிவைப் பொறுத்தது, பாத் திரத்தில் உருவத்தைப் பொறுத்ததன்று.
2. அடியின் பரப்பளவையும், பாத் திரத்திலுள்ள நீரின் உயரத்தையும் பொறுத்தது.
3. பாத் திரத்தில் உருவத்தையும் அடிமீது பரப்பளவையும் பொறுத்தது.
4. பாத் திரத்திலுள்ள நீரின் திணிவையும் அடியின் பரப்பளவையும் பொறுத்தது.
5. பாத் திரத்திலுள்ள நீரின் உயரத்தை மாத்திரம் பொறுத்தது.

44. பின்வரும் பதார்த்தங்கள் எது மின்னூட்டம் இழையாக உபயோகிக்க இயல்பு பொருத்தமானது?

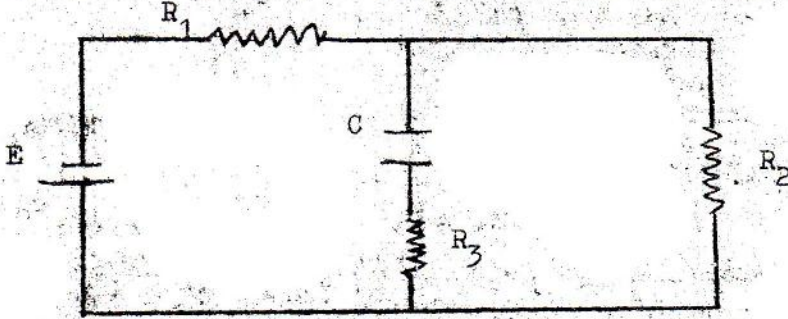
1. செம்பு
2. பொன்
3. பிளாஸ்டிக்
4. தங்கம்
5. வெள்ளி

45. பின்வரும் பதார்த்தங்கள் எது அழுத்தமானி கம்பிக்கு மிக ஏற்றது?

1. செம்பு
2. பத்தினி
3. செம்பு
4. மங்கனம்
5. திங்கம்

46. 6 டீ நீளமான கம்பியைக் கொண்ட வெப்பமாக்குகல் சுருதியுடைய மின் கேத்திலொன்று ஆள்பாடப்பட்டு 12 மீட்டர் கொதிக்க ஆரம்பிக்கிறது. அதே வொற்றளவு வழங் கலவன் கேத்தில் ஏறத்தாழ 6 மீட்டர் கொதிக்கச் செய்வதற்குச் சுருதிக்கு என்ன செய்ய வேண்டும்

1. வெப்பமாக்குகல் கம்பியை 3 மீ ஆகக் குறுக்க வேண்டும்.
2. வெப்பமாக்குகல் கம்பியை 12 மீ ஆக நீட்ட வேண்டும்.
3. வெப்பமாக்குகல் கம்பியை 36 மீ ஆக நீட்ட வேண்டும்.
4. வெப்பமாக்குகல் கம்பியை 1.5 மீ ஆகக் குறுக்க வேண்டும்.
5. வெப்பமாக்குகல் கம்பியை 2.4 மீ ஆகக் குறுக்க நீட்டவேண்டும்.



மேலே காட்டப்பட்டுள்ள மின்சுற்றில், E எனும் மின்விசக்கவிசை கொண்ட மின்கலவருக்கு புறக்கணித்தத்தக்க உள்தடையைக் கொண்டது. கொள்ளளவு C இற்குக் குறுக்கேயான மின் அழுத்த வித்தியாசம்:

1. $E \frac{R_1}{R_2 + R_3}$
2. $E \frac{R_2}{R_1 + R_2}$
3. $E \frac{R_3}{R_1 + R_2}$
4. $E \frac{R_2}{R_1}$
5. E

48. 120 V மின்விசக்கவிசையும் 10 ஓம் உள்தடையும் கொண்ட ஒரு மின்கலவருக்குள், முழு வலுவும் எரியுமாறு எத்தனை 100 வொல்ட்டு 50 வாற்று விளக்குகள் சமாந்தரமாகத் தொடுக்கப்படலாம்? V W

1. 12
2. 1
3. 4
4. 6
5. 24

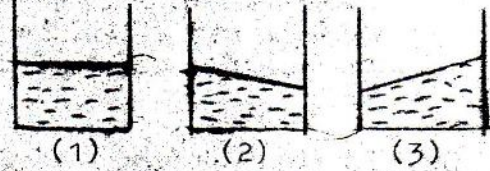
49. கிடைக்கு ஒரு கோணத்தலை சுடப்படும் ண்டொன்று சுட்ட புள்ளியிலிருந்து x எனும் கிடைத்தொடுக்கியின் அதன் பநவனையப் பாதையின் உச்சியில் சமமான திணிவுடைய A, B எனும் துண்டுகளாக வெடித்துச் சிதறுகின்றது. துண்டு A அது அது ஆரம்பப் பாதையின் வழியே ண்டொடுக்கியின் சுட்ட புள்ளியை அடைகின்றது. துண்டு B அது நிலத்தில் அடிக்கும் புள்ளியிலு கிடைத்தாரம், சுட்ட புள்ளியிலிருந்து:

1. 2x
2. 3x
3. 4x
4. 5x
5. 6x

50. கப்பலொன்று நீரில் h எனும் ஆழத்திற்கு அமிழ்ந்து மிதக்கின்றது. புவிமீர்ப்பிற்குரிய ஆர்முடுகல் அரைப்பங்காற் குறைக்கப்படின், பின்வருவனவற்றுள் எது உண்மையாக இருக்கும்? கப்பலின் மிதக்கும்போது அமிழ்ந்துள்ள ஆழம்.

1. 2h
2. $\sqrt{2}h$
3. h
4. $\frac{h}{\sqrt{2}}$
5. $\frac{h}{2}$

51. திரவத்தைக் கொண்டிருக்கும் பூத்திரமொன்று டெயிருந்து வலத்திற்குத் திடையாக சீரான ஆர்முகலுடன் நகர்த்தப்படுகின்றது. திரவப் பரப்பு அடைதும் உருவம் (தொடுகைக் கோணத்தைப் புறக்கணிக்க):



52. நுலுநெய்யாலைப் போன்ற ஒரு குளிரான டெத்தில், டெயிலக்கடிய அளவு உயர்ந்த ஒரு வெப்பநிலையில் ஒரு தொட்டி நிரம்ப நிரப்பெற வீரம்ப்படுகின்றது. குளிர் நீர் குளியெடுக்கும் கொதிநீரைக் கொண்ட ஒரேயொரு கேத்தியும் கிடைக்கும். பின்வரும் செய்முறைகளுள் எதை நீர் கையாளுவர்



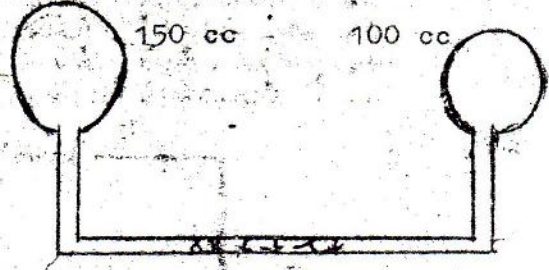
1. முதலில் கொதிநீரை ஊற்றிப் பின்னர் குளாய் நீரால் நிரப்புகல்.
2. குளாய் நீரால் அரைப்பங்களவிற்கு நிரப்பி, அதேசுக் கொதிநீரை ஊற்றி டெயிலில் வீரிப்புவரை குளாய் நீரால் நிரப்புகல்.
3. முதலில் போதுமான அளவு குளாய் நீர் ஊற்றிப் பின்னர் வீரிப்புவரை கொதி நீரால் நிரப்புகல்.
4. படிப்படியாகக் கொதிநீரை ஊற்றி, அதே வேளையில் குளாயிலிருந்தும் குளிர் நீரால் நிரப்புகல்.

5. கொத்திரர் எப்போதாவது அறற்பட்டாரும்.

53. கண்ணாடிப் பாத்திரமொன்றின் அடியில் 1 மீட்டர் ஆரமுடைய சிறிய துவாரமொன்றின்மேல் நீர் பரப்பிலுறை (மேற்பரப்பிலுறை) 70 கைன் சமீ ஆயிற், பாத்திரத்திலே வெளியே ஓடாது நீர் நிரப்பப்படக்கூடிய உயரம், அளவிடப்படவாக.

1. 14 மீ 2. 0 3. 1.4 சமீ 4. 28 மீ 5. 2.8 சமீ

54. இரண்டும் 0°C இல் இருப்பவளும் முறையே 150 க.சமீ, 100 க.சமீ கனவளவுடையவையான இரு பாத்திரங்கள் வளியைக் கொண்டிருக்கின்றன. படத்திற் காட்டியபடி, சிறிய இரச நீரிலேக் கொண்ட ஓடுகைய குழாயொன்றினூடு கொடுத்தப்பட்டிருக்கின்றன. பெரிய பாத்திரம் 30°C இற்கு வெப்பப்படுத்தப்படுகின்றது. இரச நீரிலே அதே இடத்தில் வைத்திருப்பதற்குச் சிறிய பாத்திரத்தை எந்த வெப்பநிலைக்கு வெப்பப்படுத்த வேண்டும்?



1. 20°C 2. 30°C 3. 45°C 4. 60°C 5. 125°C

55. பொருளொன்று, குழிவாடியொன்றின் தலையைச் சில்-ஆடியின் குவியத்திலிருந்து 9 சமீ தூரத்திலிருக்கின்றது. அடி ஆக்கும் இந்தப் பொருளின் உண்மை விடயம் குவியத்திலிருந்து 64 சமீ இல் இருக்கின்றது. ஆடியின் குவியத்தூரம்.

1. 7.7 சமீ 2. 7.1 சமீ 3. 12 சமீ 4. 24 சமீ 5. 36.5 சமீ

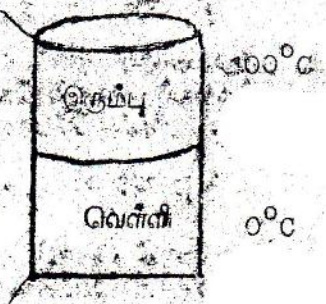
56. தட்டையான மெல்லிய கண்ணாடித் தட்டொன்று, 20 சமீ குவியத்தூரம் கொண்ட குவியத்தையொன்றின் முன் 5 சமீ இல் வைக்கப்பட்டிருக்கின்றது. கண்ணாடித் தட்டிலேயும் ஆடியிலேயும் தெரிப்பினால் உண்டாகக்கூடிய புள்ளி ஒளி முதலொன்றினது விடயங்கள் ஒன்றோடொன்று பொருந்த வேண்டாமெனில், அந்த ஒளி முதலானது கண்ணாடித் தட்டின் குவியத்தில் எவ்வளவு தூரத்தில் வைக்கப்படவேண்டும்?

1. 15 சமீ 2. 4 சமீ 3. 2.5 சமீ 4. 10 சமீ 5. 12.5 சமீ

57. சிறந்த பற்றுசு யிடக்கும் இரும்பை (Soldering iron) அலைப்பதற்கான பதார்த்தம் கொள்ளுருக்க வேண்டியது.

1. கனவளவுகொன்றிற்கு உயர்ந்த வெப்பக் கொள்ளளவும், கடிய வெப்பக் கடத்து திறனும்.
2. கனவளவுகொன்றிற்குக் குறைந்த வெப்பக் கொள்ளளவும் குறைந்த வெப்பக் கடத்து திறனும்.
3. கனவளவுகொன்றிற்கு உயர்ந்த வெப்பக் கொள்ளளவும், குறைந்த வெப்பக் கடத்து திறனும்.
4. கனவளவுகொன்றிற்குக் குறைந்த கொள்ளளவும் கடிய வெப்பக் கடத்து திறனும்.
5. வெப்பக் கொள்ளளவு ஏதுவாக இருப்பினும் நல்ல வெப்பக் கடத்து விடயங்கள்.

58. ஒரே அளவுகளைக் கொண்டவையும், ஒன்று இரும்பாலும் மற்றையது வெள்ளியாலும் இரண்டு உருளைகள் படத்திற் காட்டியபடி பெருக்கப்பட்டிருக்கின்றன. வெள்ளி உருளை சிறந்த முனை 0°C இலும், இரும்பு உருளை சிறந்த முனை 100°C இலும்-பேணப்படுகின்றன. இரண்டு உருளைகளிலும் வளைந்த பரப்புகள் நன்கு காவற்கூடியப்பட்டிருக்கின்றன. வெள்ளியை வெப்பங்கடத்து திறன் இரும்பினதும் 11 மடங்கு பெரியது. உறுதி நிலைகள் அடையப்படுமேபோது அவற்றின் முனை எது வெப்பநிலை ஏறத்தாழ?

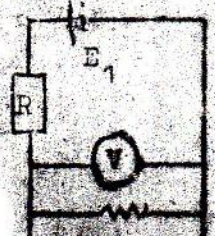


1. 8.3°C 2. 91.7°C 3. 11°C 4. 89°C 5. 50°C

59. 10 கிராம் திணிவுடைய குண்டொன்று ஒரு துப்பாக்கியிலிருந்து செக்கனுக்கு 1000 மீற்றர்க் கதியுடன் வெளியேறுகின்றது. அது மீண்டும் அதே கிடை மட்டத்திலுள்ள நிலத்தைச் செக்கனுக்கு 500 மீற்றர்க் கதியுடன் அடிக்கின்றது. வெளியேறு தடையை வளிந்த தாறுவளிற் செய்யப்படுகிற வேலை.

1. 5000 யூல் 2. 3750 யூல் 3. 50 யூல் 4. 2500 யூல் 5. 1250 யூல்

60. படத்திற் காட்டப்பட்டுள்ள மின்கற்றல், அம்பியர்மாணி A புச்சியம் காட்டுமேவரை தடை இது செய்து செய்யப்படுகின்றது. வோல்ட் றுமானி V காட்டுமே அளவிடு யாது?

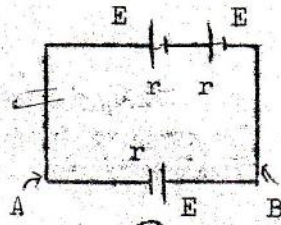


1. E1 2. E2 3. E1 + E2 4. E1 E2

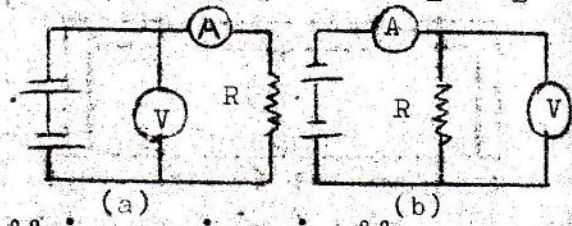
5. புச்சியம்

61. மீளியக்க விசை E யும் உள் தடை r உம் கொண்ட மூன்று சர்வசமண மீளியக்கங்கள் மீளிகற்றிற் காட்டியபடி தொடுக்கப்பட்டுள்ளன. A, B எனும் புள்ளிகளுக்கு இடையே மீளியக்க விரிதயாசம் யாது?

1. E
2. $2E$
3. $1.5E$
4. $\frac{3E}{2r}$
5. பூச்சியம்.




62. R எனும் தடையிதது பெறுமானமானது, மீளிகற்று (a) அல்லது மீளிகற்று (b) இற் காட்டியபடி தொடுக்கப்பட்ட வேலற்ற மாணி V இன்தம் அம்பியர்மானி A இன்தம் வாசிப்புகளிலிருந்து காணப்படலாம். சிறிய தடைகளை அளப்பதற்கு எதையும் பெரிய தடைகளை அளப்பதற்கு எதையும் நீர் தெரிந்து எடுப்பீர்?



1. பெரியவைக்கு a யில் சிறியவைக்கு b யும்
2. பெரியவை சிறியவை இரண்டிற்கும் a யும்
3. பெரியவைக்கு b யும் சிறியவைக்கு a யும்
4. பெரியவை சிறியவை இரண்டிற்கும் b யும்
5. பெரியவை, சிறியவை இரண்டிற்கும் a யும் b யும் ஒரேயளவு பொருத்தமானவை.

63. இரண்டு-சுட்டக் காந்தங்கள் வெவ்வேறு சர்வசமண நுல்களில் தொங்கவிடப்பட்டு ஒரே காந்தப்புலத்திலே கிடைத் தளமொன்றிலே அதிரவிடப்பட்டுபோது சிறிய வீச்சுத்துடன் 10 அலைவுகள் நிகழ்ந்த ஒரே 180 செக்கள் எடுத்தன. அதே, அவை, ஒத்த முனைவுகள் ஒன்றுக்கு இருக்கும்படி சமச்சீராக ஒன்றுசேர விடப்பட்டு எல்லாவகையிலும் மூன்றரைப் போன்றே-தொங்கவிடப்பட்டு அதே காந்தப்புலத்திலே அதிர விடப்படுகின்றன. சேர்மானம் 10 அலைவுகளை நிகழ்த்த எடுக்கும் நேரம்:

1. 90 செக்கள்
2. 180 செக்.
3. 360 செக்கள்
4. 255 செக்.
5. 127 செக்.



64. XY எனும் ஓர் இழையிலே நிலைத்த ஓடுக்கலையொன்றில் கனநிலைகளை மேலேயுள்ள படம் காட்டுகிறது. A, B, C, D என்பன இழையிலுள்ள நான்கு புள்ளிகளாகும். பின் வரும் கூற்றுக்கள் எது உண்மையாக இருந்தேயாகவேண்டும்?

1. A, B மேல்நோக்கியும், C, D கீழ்நோக்கியும் இயங்கிக்கொண்டிருக்கின்றன.
2. A, B கீழ்நோக்கியும் C, D மேல்நோக்கியும் இயங்கிக்கொண்டிருக்கின்றன.
3. A, B, C, D யாவும்-ஒரே திசையில் இயங்கிக்கொண்டிருக்கின்றன.
4. A, D மேல்நோக்கியும் B, C கீழ்நோக்கியும் இயங்கிக்கொண்டிருக்கின்றன.
5. A, B ஒரே திசையில் C, D இரண்டும் A, B எதிரெதிர் திசையில் இயங்குகின்றன.

65. சந்திரனின் முழுக் சிரகணம்:

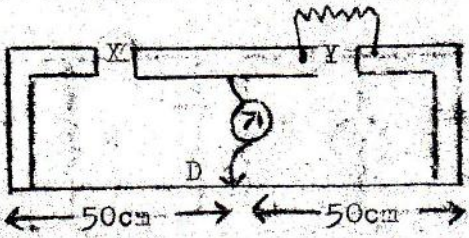
1. ஒரு பெளர்ணயி தினத்திற்கே நிகழலாம்.
2. ஒரு பெளர்ணயி தினத்திலேதான் நிகழ வேண்டுமென்பதில்லை.
3. மத்தியகோட்பெப் பிரதேசங்களில் மரத்திரமே காணப்படலாம்.
4. சூரியனின் முழுக் சிரகணத்திலும் பார்க்கக் குறைந்த தடவைகளே நிகழ்வதாகும்.
5. சூரியனின் முழுக் சிரகணத்தைப் போன்று அதே தடவைகள் நிகழ்வதாகும்.

66. புவிக்குரிய காந்தப் புலத்தின் கிடைக்கறம் நிலைக்கறம் முறையே H, V ஆகவுள்ள ஒரு பிரதேசத்தில் ஓடுக்கே விமானமொன்று அதன் இறக்கைகள் சிறுக்கு மேற்காக நீட்டியிருக்கவும் ஒரு கிடைத் தளத்திற் சித்தகவும் v எனும் சீரான வேகத்துடன் கிடை யாகப் பறக்கின்றது. அதன் இறக்கைகளின் நுளிகளுக்கிடையேயான மீளியக்க விரிதயாசம்:

1. vH இற்கு விரிதசமமானது.
2. $\frac{V}{H}$ இற்கு விரிதசமமானது.
3. Vv இற்கு விரிதசமமானது.
4. $\frac{V}{v}$ இற்கு விரிதசமமானது.
5. பூச்சியம்.

67. மீற்றாப் பாலமொன்றில், வெளி X இற்குக் குறுக்கே 1 நீளமுடைய கம்பியொன்றைத் தொடுத்தபோது சமநிலைப் புள்ளி D யில் பெறப்படுகின்றது. X இற்குக் குறுக்கேயுள்ள

முதல் கம்பியுடன், அதே பதார்த்தத்தாலானது அதே விட்டமுடையதும் ஆயினும் 23 நீளமானதுமான இரண்டாவது கம்பியொன்று சமாந்தரமாகத் தொடுக்கப்பட்டு, சமநிலைப் புள்ளி அமையும் E நெடு, AE சமம்:

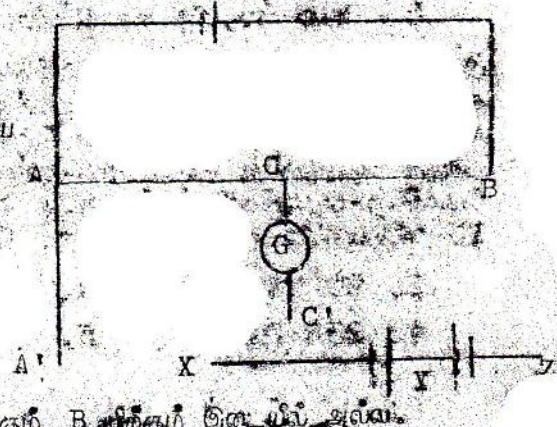


1. 75 சமீ
2. 66 சமீ
3. 60 சமீ
4. 40 சமீ
5. 25 சமீ

68. 660 ஆம்சிய வீதத்தில் கொண்ட ஒலிமுதலொன்று ஒரு சுவருக்கண்மையால் வைக்கப்பட்டிருக்கிறது. ஒலி முதலிலிருந்து சுவர், நோக்கி நடக்கும் ஒருவர் ஒலிச் செறிவில் ஓர் ஆவர்த்தனமான எற்றமும் இறக்கமும் ஏற்படுவதை அவதானிக்கிறார். வீதியில் ஒலியின் கதி 330 மீ. செ-1 ஆயின், இழிவுச் செறிவு கொண்ட அடுத்திருக்கும் இரு நிலைகளுக்கிடையேயான தூரம்:

1. 12.5 சமீ
2. 25 சமீ
3. 50 சமீ
4. 1 மீ
5. 2 மீ.


69. அழுத்தமானிக் கம்பியொன்றின் தொடுப்புடங்களாகிய A' 2 மீ C' 2 மீ முறையே X, Y இற்குத் தொடுக்கப்படுகின்றது. A யிலிருந்து 80 சமீ இல் ஒரு சமநிலைப்புள்ளி பெறப்பட்டது. A' 2 மீ C' 2 மீ முறையே X, Z இற்குத் தொடுக்கப்படுமென்போது, A யிலிருந்து 10 சமீ இல் சமநிலைப்புள்ளி பெறப்பட்டது. A' 2 மீ C' 2 மீ முறையே Z, Y இற்குத் தொடுக்கப்பட்டால், சமநிலைப்புள்ளி பெறப்படுவது.



1. A யிலிருந்து 70 சமீ, இல்
2. A யிலிருந்து 90 சமீ, இல்
3. B யிலிருந்து 70 சமீ, இல்
4. B யிலிருந்து 90 சமீ, இல்

5. A யிற்கும் B யிற்கும் இடையில் அல்ல.

70.



சமமான திணிவுடைய ஒரு சிறுவனும் ஒரு சிறுமியும் படத்திற் காட்டியபடி திடையான தரையொன்றின்மீது சரிசமவாச இரண்டு காரல்களாகிய B, C யிலிருந்து, அவர்கள் ஒரு சிறுமியின் இரு நுகைகளையும் பிடித்துக் கொண்டு நிற்கின்றனர். சிறுமியின் தகுதிகொண்டிருக்க சிறுவன் கயிறினை எப்பொழுதும் குறுகுமாற இழுத்துக் கொண்டிருப்பானும், இரண்டு காரல்களும் சந்திப்பது, பெரும்பாலும்:

1. A யில்
2. B யில்
3. C யில்
4. D யில்
5. E யில்

71 இல் இருந்து 75 வரை உள்ள வினாக்களில் ஒரு "கற்றம்" அதன் இடம் ஒரு "காரணமும்" கொடுக்கப்பட்டுள்ளது. இவை ஒவ்வொன்றும் உண்மையானவையா என்பதை ("கற்றிக்கும்" "காரணத்திற்கும்" உள்ள தொடர்பைப் பொருட்படுத்தாது) கவனிக்க. இரண்டுமே உண்மையாயின், "காரணம்" "கற்றிக்கு" தகுந்த விளக்கம் தருகின்றதா என்பதைத் தீர்ப்பாணிக்க. பின்னர் விடையைப் பின்வருமாறு அளிக்க:

கற்றம், காரணம். அதிய இரண்டுமே உண்மையாக இருந்து, கற்றிக்கு காரணம் தகுந்த விளக்கம் தந்தால், விடைத்தாளிலே 1 இன்மேல் X என்று அடையாளமிடுக.

கற்றம், காரணம். அதிய இரண்டுமே உண்மையாக இருந்து கற்றிக்கு காரணம் தகுந்த விளக்கம் தராவிட்டால், விடைத்தாளிலே 2 இன்மேல் X என்று அடையாளமிடுக.

கற்றம் உண்மையாகவும், காரணம் பொய்யாகவும் இருந்தால், விடைத்தாளிலே 3, இன்மேல் X என்று அடையாளமிடுக.

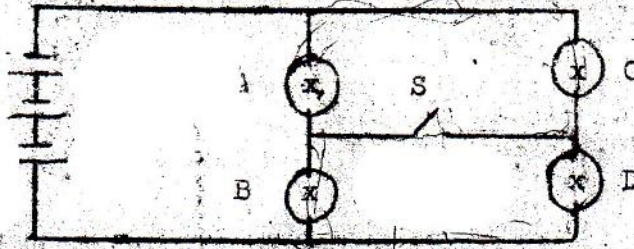
கற்ற பொய்யாகவும், காரணம் மெய்யாகவும் இருந்தால், விடைத் தாளிலே 4, இன்மேல் X என்று அடையாளமிடுக.

கற்ற, காரணம் ஆகிய இரண்டும் பொய்யாயின் விடைத்தாளிலே 5 இன்மேல் X என்று அடையாளமிடுக.

கருக்கக் கற்று:

கற்று	காரணம்	விளக்கம்	குறியீடு
உண்மை	உண்மை	சரி	1
உண்மை	உண்மை	பிழை	2
உண்மை	பொய்	---	3
பொய்	உண்மை	---	4
பொய்	பொய்	---	5

71.



A, B, C, D என்னும் நான்கு சர்வசமண மின்னணிகள் படத்தில் காட்டியபடி மின்கலவெடிகொண்டிட்டுத் தொடுக்கப்பட்டிருக்கின்றன. ஆகிய S மூடப்படுமபோது குறியீடுகளுக்குக் குறிக்கேயான வித்தியாசங்கள் மாற்றத்தில்.

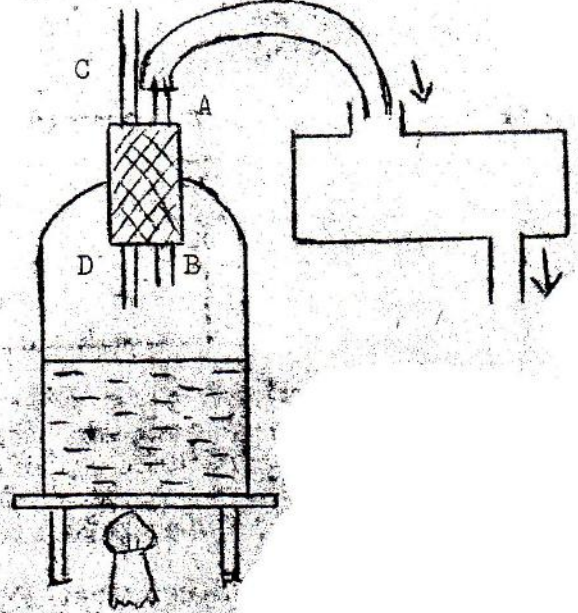
72. இயங்கும் பொருளொன்றின் வேகம் ஒரு மடங்காக்கப்படுமபோது அதன் ஆர்முக்கெல்லம் ஒரு மடங்காக்கப்படும். ஒளையில் ஆர்முக்கெல் என்பது வேக மாற்ற விதமாகும்.
73. காற்றின் மீது பொருள் மட்டமான ஒரு வீதியில் 40 மை/ம எனும் மாறு வேகத்துடன் வட்டிசை செயற்படுமபோது, அதன்மீது செயற்படும் சமச்செய்யப்படாத விசை வட்டிசை நோக்கியானும். ஒளையில் இயங்கும் பொருளொன்றின் வீதி வேகம் இயக்கத் திசையிலே சமச்செய்யப்படாத விசையொன்று எப்போதும் செயற்படும்.
74. குறித்த விசைக்கொண்டிட்டு ஒத்திசைக்கும் வளிநிறலின் தீளம் சிறிதளவு அதிகரிக்கப்பட்டால் அல்லது குறைக்கப்பட்டால் அடிப்புகள் தேட்கப்படும். ஒளையில் மிகக் கிட்டியு அளவிற் சமமான மீளறன்களுடன் இரண்டு முதல்கள் அதிரும்போது அடிப்புகள் நிகழும்.
75. ஹைமையாக, மின்மாற்றுகளின் அகனிகள் மெல்லிய தகடுகளில் அல்லாமல் தீளமக் குற்றியிற் செய்யப்படும். ஒளையில் மெல்லிய தகடுகளும் பார்க்க ஒரு தீளமக் குற்றியில் தண்டலோட்ட நடங்கள் குறைவாக இருக்கும்.

விடைகள்

1.	5	16.	1	31.	5	46.	1	61.	1
2.	5	17.	2	32.	4	47.	3	62.	4
3.	3	18.	5	33.	2	48.	3	63.	2
4.	5	19.	3	34.	2	49.	3	64.	4
5.	4	20.	4	35.	3	50.	3	65.	1
6.	2	21.	3	36.	4	51.	2	66.	3
7.	4	22.	5	37.	3	52.	1	67.	2
8.	3	23.	3	38.	1	53.	2	68.	2
9.	3	24.	5	39.	4	54.	2	69.	5
10.	4	25.	4	40.	1	55.	4	70.	3
11.	3	26.	5	41.	5	56.	1	71.	1
12.	4	27.	4	42.	5	57.	4	72.	4
13.	4	28.	2	43.	5	58.	1	73.	5
14.	5	29.	4	44.	4	59.	2	74.	1
15.	5	30.	3	45.	1	60.	5	75.	4

பௌதிகவியல் 11 'A' க.பொ.த. (உயர்தரம்) மாதிரி விடைகள், ஏப்பிரல், 1975.

1. (A) கொதிநீராவிய உண்டாக்கி அதை ஒரு கொதிநீராவிக் கஞ்சகக் குழாயினூடாகப் போக்குவதற்காகப் பாடசாலை ஆய்வு கூடமொன்றில் பயன்படுத்தப் படும் ஓர் ஒழுங்கைப் படம் காட்டுகின்றது.



(a) வெப்பமாகும் பாத்திரத்தின் தக்கையினுடைய AB, CD என்னுமிரண்டு குழாய்களைப் பொருத்தியிருப்பதன் நோக்கம் என்ன?

(b) படத்திற் காட்டியபடி, குழாய்களில் ஒன்றின் நீளம் திருப்தியானதன்று. அந்தக் குழாய் யாது? நீளத்தைத் திருப்தியானதாகக் நீர் என்ன யோசனை கூறலாம்?

(c) குழாய்களின் ஒன்றின் தீழ்முனை சரியாக வைக்கப்படவில்லை. அந்தக் குழாய் யாது? அதன் முனை சரியாக எங்கு வைக்கப்படல் வேண்டும்?


(d) கொதிநீராவியானது கொதிநீராவிக் கஞ்சகத்துள் தகுந்தவாறு அட்ப்படுகின்றதா?

(e) பகுதி (d) இற்கு நீர் அளித்த விடைக்குரிய காரணங்களைத் தருக.

(B) கண்ணாடியின் தன்வெப்பத்தைத் துணைவதற்கான ஒரு பரிசோதனையில், மாணவனொருவன் ஒரு கண்ணாடிக் குற்றியைக் கொதிநீராவிக் கஞ்சகக் குழாயொன்றில் வெப்பமாகக் கொள்ளி அறைவெப்பநிலையில் உள்ள நீரைக்கொண்ட ஒரு கலோரிமானியினுள் வைத்து 5 நிமிடங்கள் வெப்பமாகப்பட்ட கண்ணாடிக் குற்றியைக் கலோரிமானிக்குள் போட்ட கணத்திலிருந்து கலோரிமானியினதும் அதன் உள்ளடக்கங்களினதும் வெப்பநிலை கண்ணாடி அறைவெப்பமானியினதும் 15 செக். -இடைவேளையில் அளக்கப்பட்டது. மாணவன் பெற்ற அளவீடுகளைத் தவிர்த்து வெப்பநிலை நேர வரைபு கீழே காட்டப்பட்டுள்ளது. படத்திற் காணக்கூடியபடி மாணவன் அவதானித்த உயர் வெப்பநிலை 35°C ஆகும்.

(a) இது கலோரிமானியினது உயர்வெப்ப நிலைக்குத் தகுந்த ஒரு பெறுமானமன்று, ஏன்?

(b) மாணவன் தனது கணிப்பிற்கு எடுக்கவேண்டிய இறுதி வெப்ப நிலையை பகுப்பாடாத மதிப்பிடுக.



- (A) (a) AB ஆனது கொதிநீராவிய கஞ்சகக் குழாயினுள் அனுப்புவதற்குப் பயன்படும்.
CD ஆனது நீரை வளிமண்டல அழுக்கத்தில் கொதிக்கச் செய்வதற்குப் பயன்படும்.
- (b) அக்குழாய் CD ஆகும். மூளை D ஆனது நீரினுள் அமிழ்ப்படி நீட்டப்படல் வேண்டும்.
- (c) அக்குழாய் CD ஆகும். கீழ்முனை D ஆனது நீரினுள் அமிழ்த்தப்பட்டிருக்க வேண்டும்.
- (d) தகுந்தவாறு ஊடப்படவில்லை.
- (e) கொதிக்கலவில் இருந்து கஞ்சகக் குழாயினுள் செல்லும் நீராவியுடன் நீரும் சேர்ந்து செல்லும்.

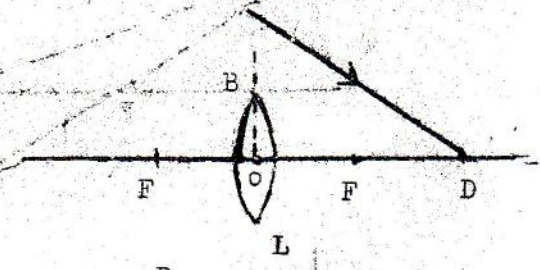
- (B) (a) கலவையின் வெப்பநிலையானது குழலின் வெப்பநிலையும் கூடியதால், கலவையின் வெப்பநிலையில் ஒரு பகுதி ஆவடிக்கு இழக்கப்பட்டிருக்கும்.

(b) கலவையின் திருத்தமான இறுதி வெப்பநிலை = $35 + \frac{(35 - 33)}{30}$

= $35 + \frac{1}{1.5} = 35 + 0.067$

= $35.067^\circ\text{C} \text{ ///}$

2. (A) F இல் தலைமைக் குவியங்களைக் கொண்ட L ன்ளும் இரட்டைக் குவிய வில்லையொன்றில் ஓர் ஒளிக்கதிர் குறிந்தபின் செல்லும் பாதையைத் தரப்பட்ட படத்திலுள்ள BD காட்டுகின்றது. BD யைத் தோற்றவிதது இருக்கக்கூடிய படுகற்றைப் பெறுவதற்கான அமைப்பைப் பருமட்டாகக் காட்டுக.

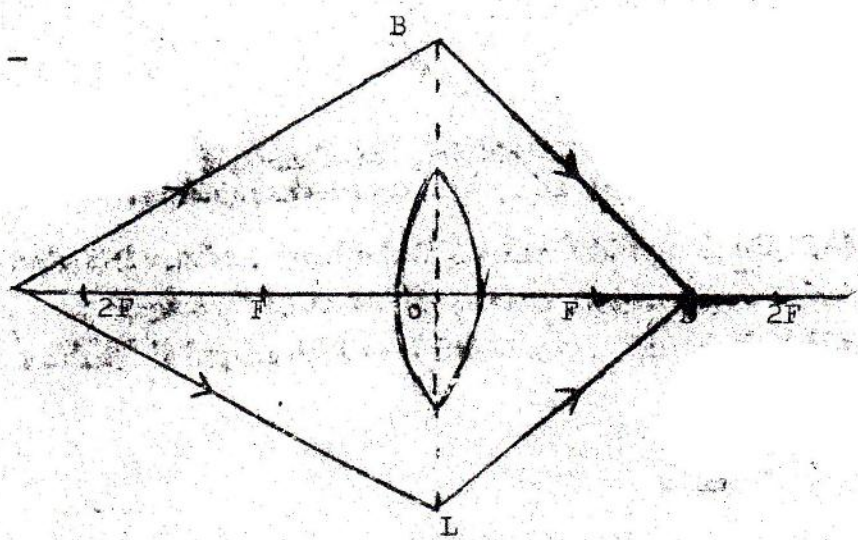


- (B) தலைமையச்சை OO' ஆகக்கொண்ட வில்லை யொன்றின் உதவியுடன் P ன்ளும் புள்ளி முதலொன்றின் ஒரு விம்பமான Q பெறப்படுகின்றது.



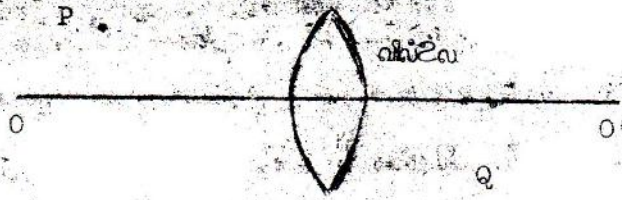
- (a) வில்லையானது OO' இல் னங்கு வைக்கப்பட வேண்டுமென அப்படத்திலே காட்டுக.
- (b) ஸ்வகையான வில்லை வைக்கப்படவேண்டும்?
- (c) வில்லையின் குவியங்கள் எங்கு அமைந்திருக்கின்றன என்பதைப் பருமட்டான அமைப்பினாலும் யுத்திற்காட்டுக. உமது அமைப்பின் படிகளை எழுதுக.
- (d) ஒரு சமநீர்தரமான ஒளிக்கற்றையானது இரண்டு குவியவில்லைகளினாலும் சென்ற பின் சமநீர்தரமான ஒளிக்கற்றையாக வெளிப்படவேண்டுமெனின், அந்த இரண்டு வில்லைகளும் ஸ்வகையாக வைக்கப்பட வேண்டுமெனக் காட்ட ஒரு படம் வரைக.
- (e) (d) இலுள்ளது போன்ற வில்லைகள் வைக்கப்பட்டிருக்கும் ஓர் ஒளியிழற் கருவி யைக் காண்க.

விடை : 2 (A)



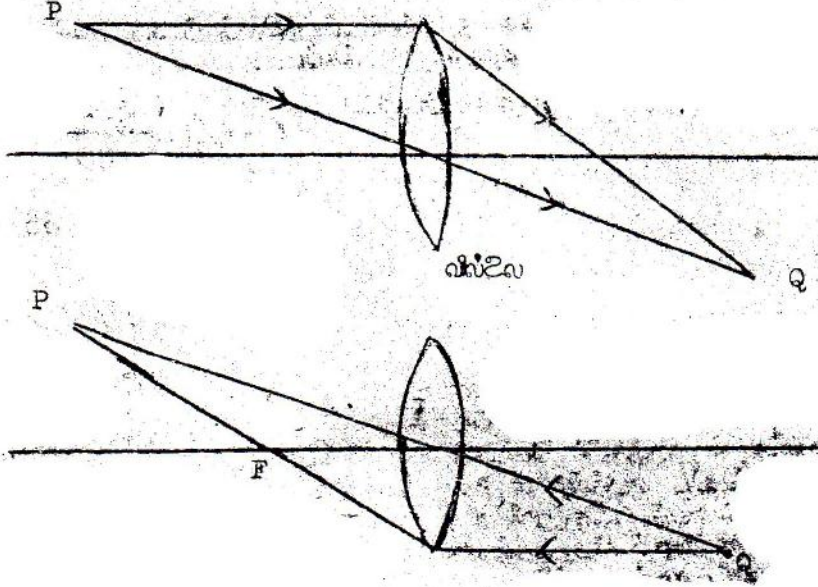
மற்றைய பக்கத்தில் $2F$ க்கு வெளியே இருக்கும் இற்கும் இடையில் இருப்பதால் பொருளானது

(B) (a)

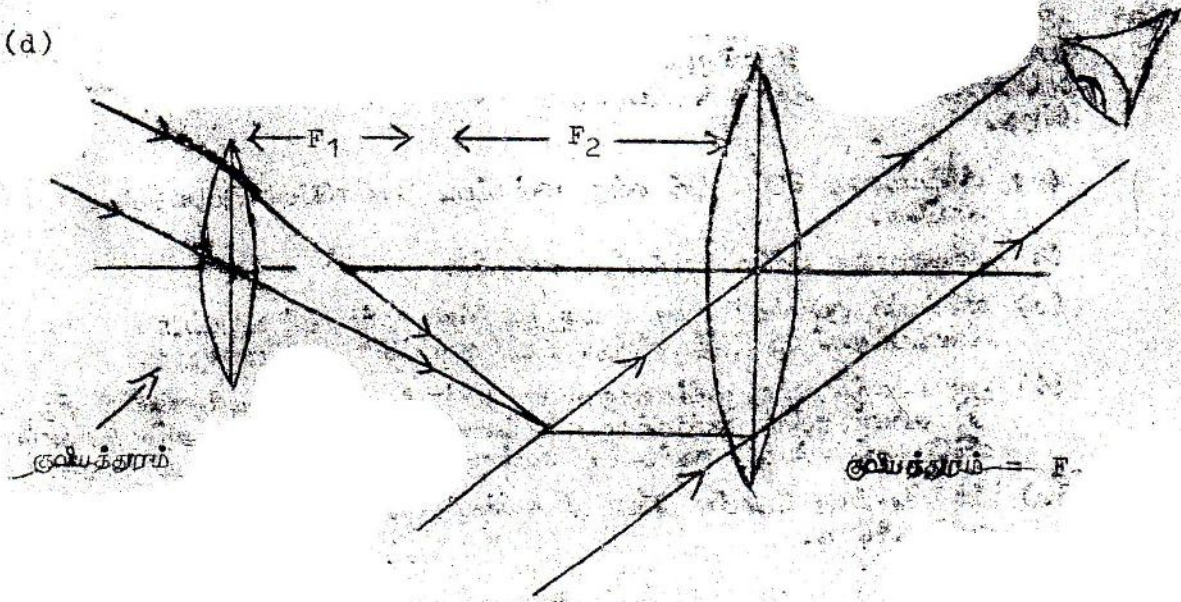


(b) குவிவிலை வைக்கப்படல் வேண்டும்.

(c) பொருளை P இல் வைப்போமேயாயின் Q இல் அதன் விம்பம் தோன்றும். இதேபோல் Q இல் பொருளை வைத்தால் P இல் விம்பம் தோன்றும்.



(d)



(e) வானியற்றொலைகாட்டியாகும்.

நேராக ஏற்றப்பட்ட கடத்தல் கோளமென்று, ஏற்றப்படாதது குவிவிலைக்குமான கடத்தல் பொட்கோளமென்றே உப்புறத்தே தொங்கவிடப்படுவது.

(A) கடத்தல் பொட்கோளத்தின் உப்புறத்திலே மின்புலம் (மண்டலம்) இருக்குமா?

(B) கடத்தல் பொட்கோளத்தின் வெளிப்புறத்திலே மின்புலம் இருக்குமா?

(C) தொங்கவிடப்பட்ட ஏற்றமானது பொட்கோளத்தின் உப்புறத்தில் இடம்பெயர்க்கப்படாமாயின்,

- (a) பொட்கோளத்திள் உப்புறத்திலே யிப்புலத்திலுல் மாற்றமேற்பமொ?
 (b) பொட்கோளத்திள் வெளிப்புறத்திலே யிப்புலத்திலுல் மாற்றமேற்பமொ?

(D) ஏற்றப்பட்ட பொருளொன்று, வெளிப்புறத்திலிருந்து, கடத்தும் பொட்கோளத்திற்குண் கையிலுல் கொண்டு வரப்பட்டால்

- (a) பொட்கோளத்திள் உப்புறத்திலே யிப்புலத்திலுல் மாற்றமேற்பமொ?
 (b) " வெளிப்புறத்திலே " " " ?

(E) ஏற்றப்பட்ட கோளமானது பொட்கோளத்திள் உப்புறப்பரப்பைத் தொடர்ச் செய்யப் பட்டால்,

- (a) பொட்கோளத்திள் உப்புறத்திலுல் யிப்புலம் இருக்குமா?
 (b) " வெளிப்புறத்திலுல் " " " ?

(F) பொட்கோளம் புலித் தொப்பிடப்பட்டபுல் பின்னர் அதன் உப்புறப்பரப்பை ஏற்றப்பட்ட தேர்ளம் தொடர்ச் செய்யப்பட்டால்,

- (a) பொட்கோளத்திள் உப்புறத்திலுல் யிப்புலம் இருக்குமா?
 (b) " வெளிப்புறத்திலுல் " " " ?

விடை 3 (A) இருக்கமாட்டாது.

(B) இருக்கும்

- (C) (a) மாற்றமேற்படமாட்டாது
 (b) மாற்றமேற்படமாட்டாது

- (D) (a) மாற்றமேற்படமாட்டாது
 (b) மாற்றமேற்படும்.

- (E) (a) இருக்கும்
 (b) இருக்கமாட்டாது

- (F) (a) இருக்கும்
 (b) இருக்கமாட்டாது

4. 100 ஓம் உள்ளதையுள்ள கல்வனோமானியானது, 10 மைக்கிரோ அம்பியர் (1 மைக். அம்பியர் 10^{-6} அம்பியர்) யிள்தொட்புத்திற்கு முன் அளவுத்திரும்பல் காட்டுகிறது.

(a) 1 அம்பியர் முழு அளவுத்திரும்பல் காட்டும் அம்பியர்மாவியாக இந்தக்-கல்வனோமானியை மாற்றுவதற்கு, ஒரு தடை எவ்வாறு தொடுக்கப்பட வேண்டும்? இந்தத் தடையின் பெறுமானம் யாது?

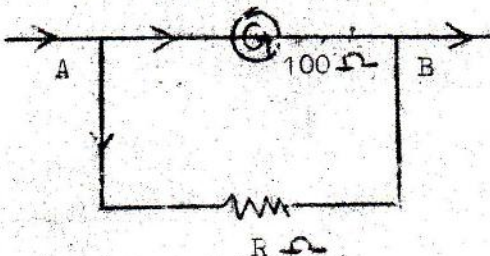
(b) 1 வோல்ட்ஜ் முழு அளவுத்திரும்பல் காட்டும் வோல்ட்ஜ்மாவியாக இந்தக் கல்வனோமானியை மாற்றுவதற்கு ஒரு தடை எவ்வாறு தொடுக்கப்பட வேண்டும்? இந்தத் தடையின் பெறுமானம் யாது?

(c) நீர் அமைக்கும் அம்பியர்மாவியா அல்லது நீர் அமைக்கும் வோல்ட்ஜ்மாவியா வெப்பநிலை மாற்றங்களுக்குக் கடி யு உணர்ச்சிற் கொண்டுக்கும்? உமது விடைக்கான காரணங்களைத் தருக.

(d) 50,000 ஓம் வரிசையிலான உள் தடையைக் கொண்ட கருவிொன்றுக்குக் குறுக்கேயுள்ள யிளமுத்த வித்தியாசத்தை அளக்க வேண்டியிருக்கின்றது. (இந்த யிளமுத்த வித்தியாசம் $< 1\%$ வேரலற்ற) பகுதி (b) இல் நீர் அமைக்கத் திட்டமிட்ட வோல்ட்ஜ்மாவியை அந்த யிளமுத்த வித்தியாசத்தைச் சரியாகக் காட்டுமா?

இல்லையெனின், நீர் எத்தகைய வோல்ட்ஜ்மாவியைப் பயன்படுத்துவர்?

விடை 4 (a) இதனை அம்பியர்மாவியாக உபயோகிப்பதற்கு தடையானது இதற்கு சமாந்தரமாக இணைக்கப்படல் வேண்டும். 1 அம்பியர் 10×10^{-6} அம்பியர்



சமாந்தரமாக இணைக்கப்பட்ட தடை = R ன்க.

சமாந்தரமாக இணைக்கப்பட்டிருப்பதால், A, B இற் கிடையிலுல் அடுத்தவேறுபாடு சமனாகும்.

∴ ஒளி விதையைப் பாவியின், \odot இன் அ. வேறுபாடு = $10 \times 10^5 \times 100$ உவோ
 R உ தடையின் " " " = $R \times (1 - 10 \times 10^{-6})$ உவோ

∴ $R(1 - 10^{-5}) = 10^{-5} \times 100$
 $= 10^{-3}$

∴ $R(10^5 - 1) = 10^5 \times 10^{-3} = 10^2$

∴ $R = \frac{10^2}{(10^5 - 1)} \approx 10^{-3} = 0.001$ உ

∴ சமாந்தரமாகத் தொடுக்கப்படவேண்டிய தடையின் பெறுமானம் = 0.001ஓம். ///

(b) இதனை உவோற்றுமாவியாகப் பயன்படுத்தத் தடையானது தெடராக இணைக்கப்பட வேண்டும். இத்தடை = R_1 உ என்க.

A, B இற்கிடையில் அழுத்த வேறுபாடு = 1 உவோற்று,

A, C இற்கிடையில் அழுத்த வேறுபாடு = $100 \times 10 \times 10^{-6}$ உவோவற்று
 $= 10^{-3}$ உவோற்று

C, B " " " = $R_1 \times 10 \times 10^{-6}$
 $= 10^{-5} R_2$ உவோற்று

A, B இற்கிடையில் அ. வேறுபாடு = A, C இற்கிடையில் அ. வேறுபாடு + C, B இற்கிடையில் அ. வேறுபாடு

$\implies 1 = 10^{-3} + 10^{-5} R_1$

∴ $R_1 = \frac{1 - 10^{-3}}{10^{-5}} = \frac{10^3 - 1}{10^{-2}} \approx 10^5$ உ

99900 உ

தொடராக இணைக்கப்பட வேண்டிய தடை = 10^5 ஓம் ///

(c) அம்மியர்மாவியாகும்.

ஏனெனில் அம்மியர்மாவியில் (மின்சேட்டம்)² ∝ வெப்பம்

(அ-து) $I^2 \propto H \implies H \propto I^2 R$

உவோவற்றுமாவியில், $H \propto V^2/R$

உணர்திறன் கூடியதாக இருக்க, H பெரிதாக இருத்தல் வேண்டும்.

(d) பாவிக்க முடியாது. இதற்கு அழுத்தமாவியைப் பயன்படுத்தலாம்.

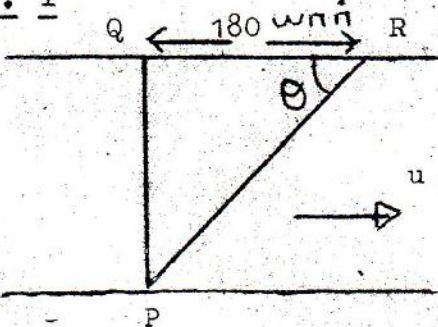
ஏனெனில் சுற்றிலிருந்து மின்சேட்டத்தை இது எடுப்பதில்லை.

பொதுக்கல்வியல் 11 'B' க.பொ.க. (உயர்தரம்) மாதிரி விடைகள், ஏப்பிரல், 1975.

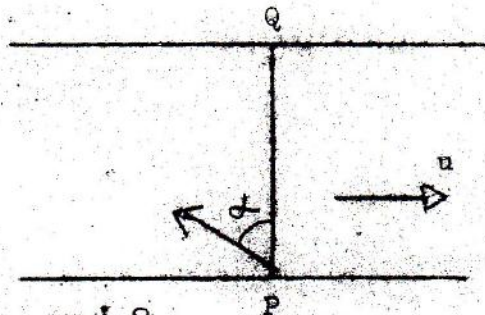
1. வள்ளமொன்றிலிருக்கும் ஒருவர் ஓரி ஆற்றை அதன் ஒரு கரையிலுள்ள P எனும் ஓர் இடத்திலிருந்து கடக்கப் புறப்படுகின்றார். அவர் தமது பாதையை ஆற்றங்கரைக்குச் செங்குத்தாக வகுத்தால், அவர் ஆற்றோடு அள்ளிச் செல்லப்பட்டு 12 நிமிடத்தின் பின்னர், P இற்கு நேர் எதிர்மேயுள்ள Q எனும் இடத்திலிருந்து நேரோடுநேராக 180 யார் தூரத்திலுள்ள R எனும் ஓர் இடத்தில் மறுகரை அடைகின்றார். நேரோட்டத்திற்கு எதிராக, PQ இற்கு α எனும் ஒரு கோணத்தில் அவர் தமது பாதையை வகுத்தால், அவர் Q இற் கரையிறங்க முடியுமாயினும் அவ்வாறு அடைய 15 நிமிடமெடுக்கின்றார்.

(அ) கோணம் α (ஆ) ஆற்றின் அகலம் (இ) ஆறு பாயுக் வேகம் என்பவற்றைக்கா

விடை : 1



படம் 1.



படம் 2.

ஆறு பாயும் வேகம் = u யார் / நிமிடம் என்க.
அதாவது, புகி தொடர்பாக ஆற்றநீர் பாயும் வேகம் = u யார் / நிமிடம்.

நீர் = W)
வள்ளம் = M) என்க.
புழி = E)

∴ புழி தொடர்பாக ஆற்றநீரின் வேகம் = $\underline{V}(W, E)$
" " வள்ளத்தின் " = $\underline{V}(M, E)$
" நீர் தொடர்பாக " " = $\underline{V}(M, W) = v$ என்க.

படம் 1. இல்:

$$\underline{V}(W, E) = \vec{u}$$

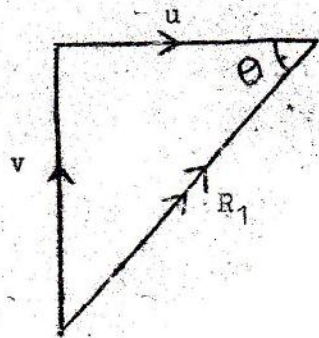
$$\underline{V}(M, E) = \vec{V} \quad \underline{V}(M, E) = R_1$$

∴ தொடர்பு வேகக் கோட்பாட்டின்படி,

$$\underline{V}(M, E) = \underline{V}(M, W) + \underline{V}(W, E)$$

$$= \vec{V} + \vec{u}$$

வேக முக்கோணத்தை அமைப்பிவ்,



$$\rightarrow R_1 \cos \theta = u$$

$$\uparrow R_1 \sin \theta = v$$

ஆற்றின் அகலம் = d யார் என்க.
ஆற்றின் திசையில், \vec{u} என்பது \vec{V} தரம் 180 யார்

இதற்கெடுத்த நேரம் = 12 நிமிடம்

$$\therefore R_1 \cos \theta \cdot 12 = 180$$

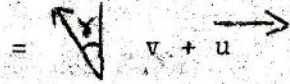
$$\implies u = 180 = 15 \text{ யார் / நிமிடம்}$$

மேலும், $R_1 \sin \theta \cdot 12 = d$
 $\implies 12v = d \quad \text{--- (1)}$

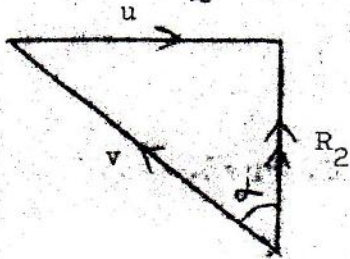
படம் 2 இல்

கொடுப்பு வேகக் கோப்பாணிப்பு

$$\underline{v} (M, E) = \underline{v} (M, E) + \underline{v} (W, E)$$



$$\underline{v} (M, E) = R_2 \text{ எனில், வேகமுக்கோணத்தை அமைப்பின்,}$$



$$\implies \theta = u - v \sin \alpha$$

$$\uparrow R_2 = v \cos \alpha$$

மேலும் $R_2 \cdot 15 = d \implies v \cos \alpha \cdot 15 = d \quad \text{--- (2)}$

$$(1), (2) \implies v \cos \alpha \cdot 15 = 12v \implies \cos \alpha = 4/5$$

$$\therefore v \times \frac{3}{5} = 15, \therefore v = 25 \text{ யார்/நிமிடம்}$$

$$\therefore d = 12 \times 25 = 300 \text{ யார்}$$

$$\therefore \alpha = \sin^{-1} 3/5; \text{ ஆற்றல் அகலம்} = 300 \text{ யார்}$$

$$\text{ஆய் பாயும் வேகம்} = 15 \text{ யார்/நிமிடம்}$$

2. சார்ப்பத்தை வரையறுக்க, பளிபுறலை என்பதன் அறியப்படுவது யாது ? சார்ப்பத்தை என்பது பளிபுறலை நிலையில் நிகழும் எவ்வாறு உய்த்தறியப்படலாம் ?

50 ஹெர்திசு சார்ப்பத்தைக் கொண்டதும் 20°C இலுள்ளதும் 1 மீற்றர்³ வளியானது, வெப்பநிலையை மாற்றி வைத்து அதன் ஆரம்ப கனவளவின் காற்பங்காக்க ஒடுக்கப் படுகிறது. 20°C இல் நீரின் நிரம்பலாவியமூக்கம் 17.5 மீ.மீ இரகமாயின், எவ்வளவு சார்ப்புறல் பிடிக்கும் ?

வினா 2

சார்ப்புறல்

ஒரு குறிக்கப்பட்ட கனவளவு வளியில் உள்ள நீராவியின் திணிவுக்கும் அதே கனவளவு வளியை அதே வெப்பநிலையில் நிரப்புவதற்குத் தேவையான நீராவியின் திணிவுக்கும் உள்ள விகிதம் சார்ப்புறல் எனப்படும். இது பொதுவாக நூற்றுவிதத்தில் கொடுக்கப்படும்.

$$\therefore \text{சார்ப்புறல்} = \frac{\text{ஒரு குறிக்கப்பட்ட கனவளவு வளியில் உள்ள நீராவியின் திணிவு}}{\text{அதே கனவளவை அதே வெப்பநிலையில் நிரப்பத் தேவையான நீராவியின் திணிவு}} \times 100\%$$

பளிபுறலை

அன்ற வெப்பநிலையில் வளிமண்டலத்தில் உள்ள நீராவியானது அதை மட்டுமட்டாக நிரம்பலாவி ஆகவேதற்கு எந்த வெப்பநிலைக்குக் குளிர்ச் செய்யப்பட வேண்டுமோ, அவ்வெப்பநிலையினை பளிபுறலை எனப்படும்.

ஒரு குறிக்கப்பட்ட கனவளவு வளியில் உள்ள நீராவியின் திணிவு = m என்க.
 அதன் அழுக்கம் = p என்க.

அதே வெப்பநிலையில் அதே கனவளவை நிரப்பத் தேவையான நீராவியின் திணிவு = M என்க.

இந் நிரம்பலாவியின் அழுக்கம் = P என்க.

$$\therefore m \propto p \quad \text{and} \quad M \propto P \quad \therefore \frac{m}{M} = \frac{p}{P}$$

மேலும் அதை வெப்பநிலையில் நிரம்பாத ஆவியாயிருந்த நீராவியானது, அன்றைய பனிபடுதலில் மட்டுமே நிரம்பிக் கொண்டிருக்கும். அதை வெப்ப நிலையில், பனிபடுதலில் உள்ள நீராவியின் மூலக்கூறுகள் ஒரே அளவினதாகையினால் பனிபடுதலில் உள்ள நிரம்பலாவி அழுக்கத்தின் பருமனும், அதை வெப்பநிலையில் உள்ள நீராவியின் அழுக்கத்தின் பருமனும் சமமாகும்.

$$\therefore \text{சாரீரப்பதன்} = \frac{\text{பனிபடுதலில் நிரம்பலாவியழுக்கம்}}{\text{அதே வெப்பநிலையில் நிரம்பலாவியழுக்கம்}} \times 100\%$$

இதிலிருந்து பனிபடுதல் அறியப்படும்.

$$\text{சாரீரப்பதன்} = 50\%$$

$$20^\circ\text{C இல் நிரம்பலாவி அழுக்கம்} = 17.5 \text{ மி.மீ. இரசம்}$$

$$\therefore 20^\circ\text{C இல் நீராவியின் அழுக்கம்} = p \text{ மி.மீ. இரசம் என்க.}$$

$$\therefore \frac{p}{17.5} \times 100 = 50$$

$$\implies p = 8.75 \text{ மி.மீ. இரசம்.}$$

$$1 \text{ மீ}^3 = 1000 \text{ இலீற்.}$$

$$\therefore 1000 \text{ இலீற். வளியின் கனவளவு (நி.வெ.அ.) இல் } V_1 \text{ இலீற். என்க.}$$

$$\therefore \frac{P_1 V_1}{T_1} = \frac{P_2 V_2}{T_2} \quad \text{கையப் பாவிப்பின்}$$

$$\frac{760 \times V_1}{T_1} = \frac{8.75 \times 1000}{293} \implies V_1 = \frac{875 \times 273}{76 \times 293} \text{ இலீற்.}$$

வளியின் கனவளவு $\frac{1}{4}$ பங்காக்கப்பட்ட பின்பு, நி.வெ.அ. இல் அதன் கனவளவு = V_2 என்க.

$$\therefore V_2 = \frac{1}{4} V_1 \text{ ஆகும்.}$$

$$\text{படிந்த நீராவியின் கனவளவு} = V_1 - V_2 = \frac{3}{4} V_1$$

$$\text{நி.வெ.அ. இல் } 22.4 \text{ இலீற். இலுள்ள நீராவியின் திணிவு} = 18 \text{ கிராம்.}$$

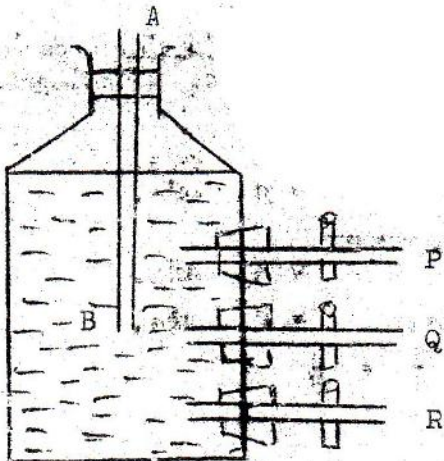
$$\text{" " } \frac{3}{4} \text{ இலீற் " " "}$$

$$= \frac{3}{4} \times \frac{875 \times 293}{76 \times 293} \times \frac{18}{22.4} \text{ கிராம்}$$

$$= 6.466 \text{ கிராம்.}$$

$$\therefore \text{படிந்த சாரப்பற்று} = 6.5 \text{ கிராம்.} \quad \text{//}$$

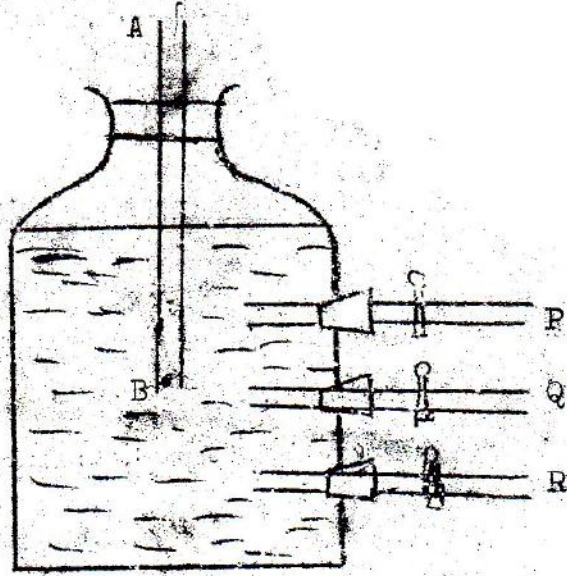
3.



தடுப்புக்கலைக் கொண்டு P, Q, R எனும் மூன்று கிடைக் குழாய்களை படத்திற் காட்டிய படி மாரியொன்றினது போத்தலொன்றின் பக்கத்திலிருந்து நீட்டிக் கொண்டிருக்கின்றன. இரண்டு நுகுகருந் திறந்த AB எனும் ஒரு குழாயொன்றினது, B என்ற நுகி Q ஐப் போன்று ஒரே மட்டத்திலே அமையுமாறு, போத்தற் கழுத்துள்ள தக்கையினுடு செவ் கின்றது. போத்தலின் திறன் மட்டம் P இற்கு உயர் உள்ளது. குழாய்த் தடுப்புகளெல்லாம் மூடப்பட்டிருக்கும்போது குழாய் AB யில் நீர்மட்டமானது குழாயின் அடியில் அதாவது B யிற் கிடக்கின்றது.

- அ. Q, R என்பவற்றை முடிவைத்துத் தடுப்பு P ஐத் திறக்கும்போது,
 ஆ. P, R என்பவற்றை முடிவைத்துத் தடுப்பு Q ஐத் திறக்கும்போது,
 இ. P, Q என்பவற்றை முடிவைத்துத் தடுப்பு R ஐத் திறக்கும்போது,
 என்ன நிகழ்மொன விபரீதீய விளக்குக

வி த உ 3



அ. Q, R என்பன முடியுக்கும்போது தடுப்பு P இனைத் திறக்கும்போது:

P இனைத் திறக்கும்போது வாய்ப்பு P இனுடாகப் போத்தலினுள் செல்லும், அவ் போது குழாய் AB இல் நீர்மட்டமானது, குழாய் P இன் மட்டம் வரை ஏறும். ஏனெனில் வாய்ப்பு போத்தலினுள் செல்லும்போது, போத்தலினுள் உள்ள வாய்ப்பு அழுக்கம் அதிகரிப்பதால், வாய்ப்பு குழாய் AB இனுள் நீரைத் தள்ளுகின்றது. இது P இன் மட்டத்தில் உள்ள அழுக்கம் வாய்ப்புடலவழுக்கமாக இருக்கும்வரை நிகழ்கின்றது.

ஆ. P, R என்பன முடியுக்கும்போது தடுப்பு Q இனைத் திறக்கும்போது:

இங்கு ஒரு விதமான மாற்றமும் ஏற்படாட்டாது. ஏனெனில் குழாய் Q இன் இரு முனைகளும் வாய்ப்புடலவழுக்கத்தில் உள்ளன.

இ. P, Q என்பன முடி இருக்கும்போது R ஐத் திறந்தால்:

R இனுடாக நீரானது வெளியே பாயும். பாயும் நீரானது போத்தல், உள்ள நீர்மட்டமானது B இனை அடையும்வரை ஒரு மாறல்க்கில் பாயும். அதன் பின்பு பாயும் வீதம் குறைக்கப்பட்டு, நீர்மட்டம் R இனை அடையும் வரை நிகழும்.

ஏனெனில், B இன் மட்டத்திற்கும் R இன் மட்டத்திற்கும் இடையேயுள்ள அழுக்க வித்தியாசமானது, நீர்மட்டம் B இனை அடையும் வரை ஒரு மாறலியாக இருக்கும். அதன் பின்பு அழுக்க வித்தியாசம் குறைகின்றது.

4. ஒளி முறிவு விதிகளைக் கூறுக. நிரண்டி ஊடகங்களைப் பிரித்திருக்கின்ற முறிக்கும் கோணப் பரப்பொன்றிலிருந்தான பொருளினதும் விம்பத்தினதும் தூரங்களைத் தொடர்புபடுத்தும் சூத்திரமொன்றை எழுதுக, பயன்படுத்தும் குறிவழக்கைத் தெளிவாகக் கூறுக.

கோளவடிவான பொன்மீன் கிள்ளமொன்று 20 ச. மீ விட்டம் கொண்டுள்ளது. அதற்குள்ளே, 10 ச. மீ நீளமான பொன்மீனொன்று, வெளிப்புறத்திலிருந்து கிடைப்பான விம்பமொன்றின் வழியே அதைப் பார்க்கும் ஒருவரை நோக்கி அகே கிடை விட்டம் வழியே நீந்திச் செல்கின்றது. மீனினுடைய வாய் கிள்ளைச் சுவரிலிருந்து 5 ச. மீ இல் இருக்கும்போது, பான்ப்பவருக்கு மீன் எவ்வளவு நீளமானதாகத் தோன்றும்.

$$\left(\text{நீரின் முறிவுக் குணகம்} = \frac{4}{3} \right)$$

விடை : 4

ஒளி முறிவு விதிகள்:

அ. படுகதிர், முறிக்கதிர், படுபுள்ளியில் உள்ள செவ்வன் - இவை யாவும் ஒரு தளத்தில் இருக்கும்.

ஆ. தரப்பட்ட இரு அடக்கங்களுக்குப் படுகோணத்தின் சைனுக்கும், முறிவுக்கோணத்தின் சைனுக்கும் உள்ள விகிதம் ஒரு மாறிலியாகும்.

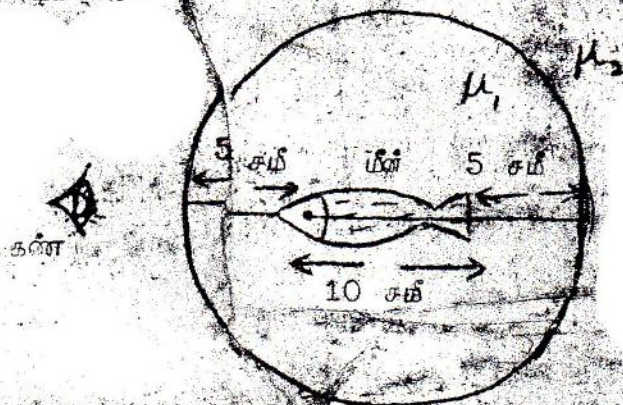
$$(அ-ஆ) \quad \mu = \frac{\text{சைன் } i}{\text{சைன் } r} \quad \begin{array}{l} i - \text{படுகோணம்} \\ \mu - \text{மாறிலி} \\ r - \text{முறிவுக்கோணம்} \end{array}$$

$$\frac{\mu_2}{v} - \frac{\mu_1}{u} = \frac{\mu_2 - \mu_1}{r} \quad \text{----- (1)}$$

இங்கு μ_1 = பொருள் உள்ள அடக்கத்தின் முறிவுக்குணகம்
 μ_2 = வாய்ப்பு உள்ள அடக்கத்தின் முறிவுக்குணகம்.
 r = முறிக்கும் கோணப்பரப்பின் வளைவிறை.

குறிப்பு:

எல்லாத் தரங்களும் முறிக்கும் கோணப்பரப்பிற்கு அளக்கப்படும். ஒளிக்கதிர் திசைக்கு எதிராக அளக்கப்படும் தூரம் நேர் எனவும், ஒளிக்கதிர் திசையில் அளக்கப்படும் தூரம் எதிர் எனவும் கொள்ளப்படும்.



மீளின் வாயில் ஏற்படும் முறிவுக்கு, (1) இனைப் பாவிப்பின்

$$\frac{1}{v_1} - \frac{4/3}{5} = \frac{1 - 4/3}{10}$$

இங்கு v_1 = பாசப்பவருக்கு மீளின் வாயின் தூரம்.

$$\therefore \frac{1}{v_1} - \frac{4}{15} = - \frac{1}{30}$$

$$\therefore \frac{1}{v_1} = \frac{4}{15} - \frac{1}{30} = \frac{8-1}{30}$$

$$\therefore v_1 = \frac{30}{7} \text{ ச.மீ}$$

பாசப்பவருக்கு மீளின் வாயின் தூரம் = v_2 என

\therefore மீளின் வாயில் ஏற்படும் முறிவுக்கு, (1)

$$\frac{1}{v_2} - \frac{4/3}{15} = \frac{1 - 4/3}{10}$$

$$\therefore \frac{1}{v_2} - \frac{4}{45} = -$$

$$\therefore \frac{1}{v_2} = \frac{4}{45} -$$

$$\begin{aligned} \text{பார்ப்பவருக்கு மீண்டும் கோற்றநீளம்} &= 18 - \frac{30}{7} \text{ ச.மீ} \\ &= \frac{126 - 30}{7} \\ &= \frac{96}{7} = 13\frac{5}{7} \text{ ச.மீ} \end{aligned}$$


5. அதிர்வுக் காந்தமானியைப்பது யாது? இரண்டு சட்டக் காந்தங்களின் காந்தத் திருப்பங்கள் (திருப்பு திறன்களை) ஒப்பிடுவதற்கு அதை எவ்வாறு உபயோகிப்பீரென்பதைப் பரிசாதினை விவரங்கள் தந்து வித்துக.

காந்தவுசிரொன்று அதன் புலியீர்ப்பு மையத்திற்குடாகச் செல்லும் ஓர் அக்க பற்றிக் சுழலக்கூடியவாறு பெருந்தப்பட்டிருக்கிறது. அது, முதலில், கிடையாது தளபொன்றிற் சிறிய அலைவுகளைச் சமாதானமாக நிகழ்த்தக்கூடியவாறும், அடுத்து, காந்த நுள்வாணியை (உச்சநெடு கோட்டின்) நிலைக்குத்துத் தளத்திற் சிறிய அலைவுகளை நிகழ்த்தக் கூடியவாறும் புலியிது காந்தப் புலத்தில் வைக்கப்படுகிறது. ஒவ்வொரு சந்தர்ப்பத்திலும் அலைவுக்காலம் முறையே 2.35 செக்கனும் 2.25 செக்கனும்படும். பதன (சாய்வு) க் கோணம் யாது?

விடை: 5

அதிர்வுக் காந்தமானி:

இது வெப்பச்சுக்களையும் கண்ணாடி யன்னல்களையும் மேல்பாகத்திற் நிலைக்குத்தாறு உருவாக்கியிருக்கின்ற பெட்டியினால் ஏந்தப்பட்ட குறுகிய காந்தச்சட்டமானியைக் கொண்டு உருளைக்குறியின் மேல்மேயில், முறுக்கற்ற நுண்ணிய இமை பெருந்தப்பட்டிருக்கின்ற திருக்கிட்டு ஒழுங்கு ஓர் உண்டு. இவ்வழியின் மறுமுறையில் காந்தவொன்றினை விடயாகத் தாங்கத்தக்க ஏந்தியொன்ற உண்டு. காந்தச்சட்டங்க்கு சந்தர்ப்பம், காந்தமானியின் உப்புறத்தின் அடித்தளத்தில் ஒரு கோடு உண்டு. பெட்டியின் மேற்பாகத்தில் இக்கோட்டினைப் பார்ப்பதற்கு ஒரு செவ்வகத் துவாரம் உண்டு. இதன் அப்பாகத்தில் ஒரு காந்தவொன்றை வைத்து அதை வெள்ளை அதிர்வுக் காந்தமானி ஆகும்.



இரண்டு காந்தச் சட்டங்களின் காந்தத் திருப்புத்திறன்களை ஒப்பிடுதல்.

ஒப்பிட வேண்டிய சட்டக் காந்தங்களின் காந்தத் திருப்புத்திறன்கள் முறையே M_1 , M_2 என்க. இவற்றின் சட்டத்தவத் திருப்பங்கள் முறையே K_1 , K_2 என்க. அதிர்வுகூ காந்தப்புலத்தில் செலு F என்க.

முதலில் காந்தச் சட்டங்களின் ஒத்த முனைவுகள் ஒரே திசை நோக்குமாறு ஆ காந்தமானியின் ஏந்தியில் காந்தச்சட்டங்களை வைக்க. அப்போது இச்சேர்மானத்தில் காந்தத் திருப்புத்திறன் $(M_1 + M_2)$ ஆகும். சட்டத்தவத் திருப்புத்திறன் $(K_1 + K_2)$ எனவே அதிர்வுகாலம் T_1 என்க,

$$T_1 = 2\pi \sqrt{\frac{K_1 + K_2}{(M_1 + M_2)F}} \quad \text{----- (1)}$$

வ்வாறுமேயின்கள் ஒரே திசை நோக்க அவற்றை அதிர்ச் செய்து, அதிர்வுகாலம் T_2 என்க திருப்புத்திறன் $(M_1 - M_2)$ ஆகும். சட்டத்தவத்

$$\frac{1}{T_2} = \frac{1}{2\pi} \sqrt{\frac{(K_1 - K_2)}{(M_1 - M_2)F}} \quad \text{----- (2)}$$